

Leçon 23 – 20/05/2025

7. Électrostatique

- 7.1 Champ électrique
- 7.2 Potentiel électrique et tension
- 7.3 Conducteurs
- 7.4 Condensateurs

7.1.3 Champ électrique



Michael Faraday

7.1.3 Champ électrique

Champ électrique (**E**) : grandeur vectorielle intensive définie en tout point de l'espace. La force électrique **F** exercée sur une charge électrique q s'exprime comme le produit de la charge électrique et du champ électrique :

$$\mathbf{F} = q\mathbf{E} \quad (7.2)$$



Michael Faraday

7.1.3 Champ électrique

Champ électrique (\mathbf{E}) : grandeur vectorielle intensive définie en tout point de l'espace. La force électrique \mathbf{F} exercée sur une charge électrique q s'exprime comme le produit de la charge électrique et du champ électrique :

$$\mathbf{F} = q\mathbf{E} \quad (7.2)$$

- Si le champ électrique est dû à une autre charge électrique Q , compte tenu de (7.1) et (7.2), ce champ s'écrit :

$$\mathbf{E} = \frac{1}{4\pi\epsilon_0} \frac{Q}{r^2} \hat{\mathbf{r}} \quad (7.3)$$



Michael Faraday

7.1.3 Champ électrique

Champ électrique (\mathbf{E}) : grandeur vectorielle intensive définie en tout point de l'espace. La force électrique \mathbf{F} exercée sur une charge électrique q s'exprime comme le produit de la charge électrique et du champ électrique :

$$\mathbf{F} = q\mathbf{E} \quad (7.2)$$

- Si le champ électrique est dû à une autre charge électrique Q , compte tenu de (7.1) et (7.2), ce champ s'écrit :

$$\mathbf{E} = \frac{1}{4\pi\epsilon_0} \frac{Q}{r^2} \hat{\mathbf{r}} \quad (7.3)$$

- Unité physique (SI) : $[\text{N.C}^{-1}] = [\text{kg.m.A}^{-1}.\text{s}^{-3}]$



Michael Faraday

7.1.3 Champ électrique

Champ électrique (**E**) : grandeur vectorielle intensive définie en tout point de l'espace. La force électrique **F** exercée sur une charge électrique q s'exprime comme le produit de la charge électrique et du champ électrique :

$$\mathbf{F} = q\mathbf{E} \quad (7.2)$$

- Si le champ électrique est dû à une autre charge électrique Q , compte tenu de (7.1) et (7.2), ce champ s'écrit :

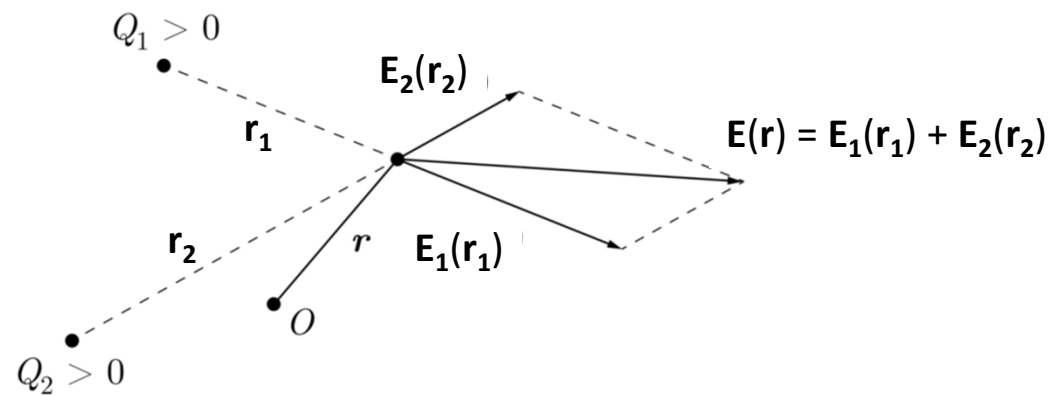
$$\mathbf{E} = \frac{1}{4\pi\epsilon_0} \frac{Q}{r^2} \hat{\mathbf{r}} \quad (7.3)$$

- Unité physique (SI) : $[\text{N.C}^{-1}] = [\text{kg.m.A}^{-1}.\text{s}^{-3}]$
- Le champ électrique **E** généré par une charge électrique Q (positive/négative) est orienté vers l'(extérieur/intérieur).



Michael Faraday

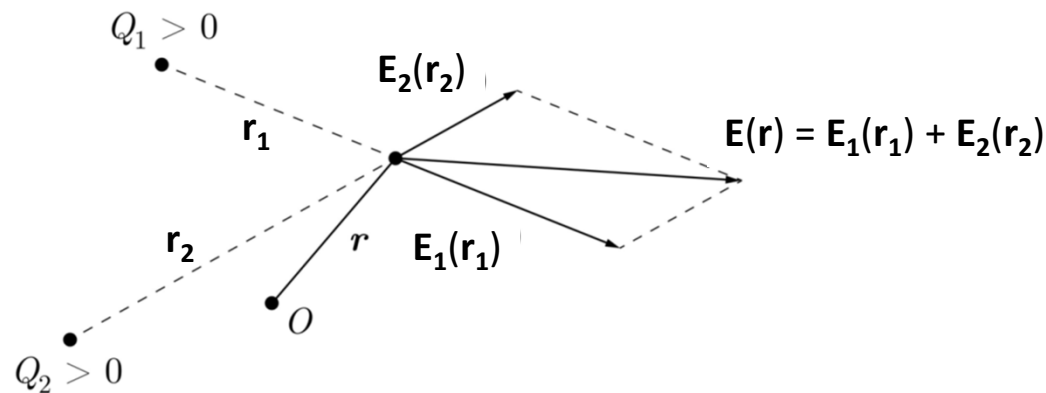
7.1.4 Principe de superposition



7.1.4 Principe de superposition

Comme la force électrique \mathbf{F} est une grandeur extensive, la force électrique \mathbf{F} exercée sur une charge électrique q située à la position \mathbf{r} par un ensemble de n charges électriques Q_1, Q_2, \dots, Q_n s'écrit :

$$\mathbf{F}(\mathbf{r}) = \sum_{i=1}^n q\mathbf{E}_i(\mathbf{r}_i) = q(\mathbf{E}_1(\mathbf{r}_1) + \dots + \mathbf{E}_n(\mathbf{r}_n)) = q\mathbf{E}(\mathbf{r}) \quad (7.4)$$



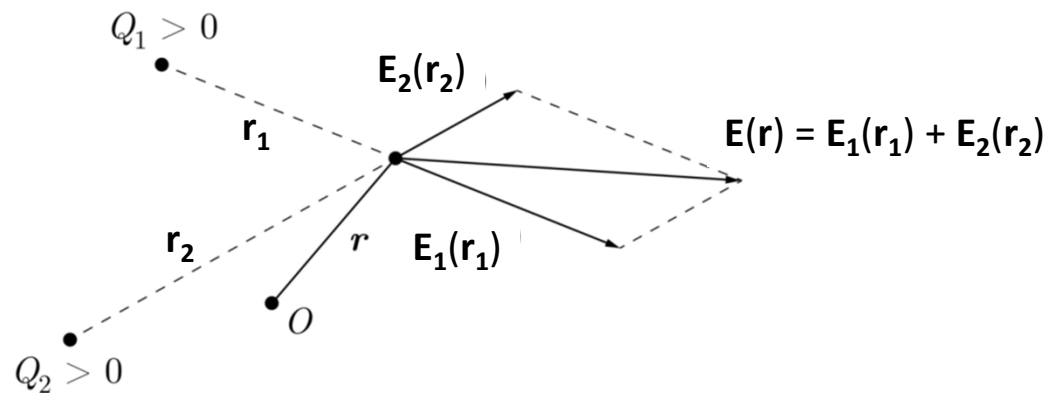
7.1.4 Principe de superposition

Comme la force électrique \mathbf{F} est une grandeur extensive, la force électrique \mathbf{F} exercée sur une charge électrique q située à la position \mathbf{r} par un ensemble de n charges électriques Q_1, Q_2, \dots, Q_n s'écrit :

$$\mathbf{F}(\mathbf{r}) = \sum_{i=1}^n q \mathbf{E}_i(\mathbf{r}_i) = q (\mathbf{E}_1(\mathbf{r}_1) + \dots + \mathbf{E}_n(\mathbf{r}_n)) = q \mathbf{E}(\mathbf{r}) \quad (7.4)$$

Ainsi,
$$\mathbf{E}(\mathbf{r}) = \sum_{i=1}^n \mathbf{E}_i(\mathbf{r}_i) = \mathbf{E}_1(\mathbf{r}_1) + \dots + \mathbf{E}_n(\mathbf{r}_n) \quad (7.5)$$

où les \mathbf{r}_i sont les vecteurs reliant les charges Q_i à la charge électrique q située à la position \mathbf{r}



7.1.4 Principe de superposition

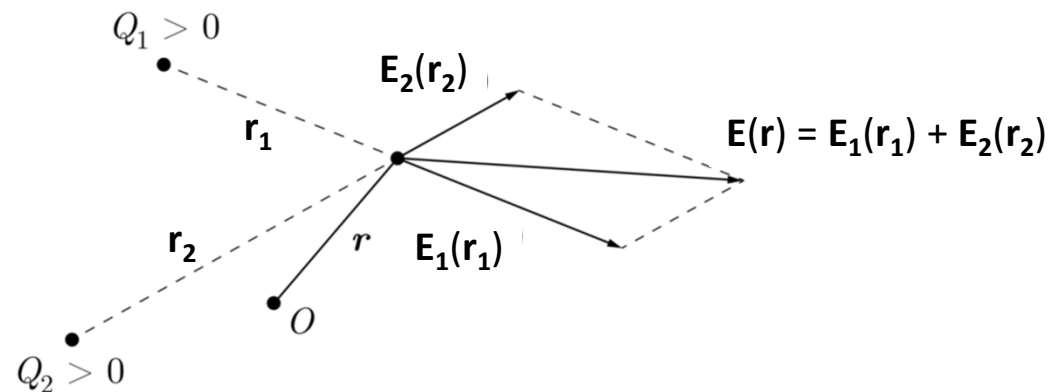
Comme la force électrique \mathbf{F} est une grandeur extensive, la force électrique \mathbf{F} exercée sur une charge électrique q située à la position \mathbf{r} par un ensemble de n charges électriques Q_1, Q_2, \dots, Q_n s'écrit :

$$\mathbf{F}(\mathbf{r}) = \sum_{i=1}^n q\mathbf{E}_i(\mathbf{r}_i) = q(\mathbf{E}_1(\mathbf{r}_1) + \dots + \mathbf{E}_n(\mathbf{r}_n)) = q\mathbf{E}(\mathbf{r}) \quad (7.4)$$

Ainsi,
$$\mathbf{E}(\mathbf{r}) = \sum_{i=1}^n \mathbf{E}_i(\mathbf{r}_i) = \mathbf{E}_1(\mathbf{r}_1) + \dots + \mathbf{E}_n(\mathbf{r}_n) \quad (7.5)$$

où les \mathbf{r}_i sont les vecteurs reliant les charges Q_i à la charge électrique q située à la position \mathbf{r}

- Soit deux charges électriques positives Q_1, Q_2 :



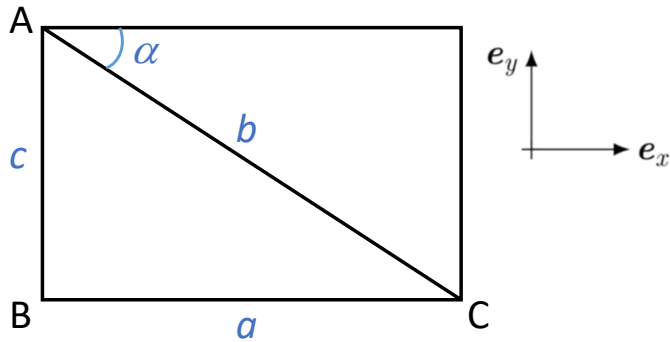
7.1.4 Principe de superposition : exemple

7.1.4 Principe de superposition : exemple

- Soit trois points A, B et C qui forment un triangle ABC rectangle en B. On note respectivement a , b et c la longueur des côtés opposés à ces points. Deux charges électriques ponctuelles Q_A et Q_B sont maintenues en A et B, respectivement. Que vaut le carré de la norme du champ électrique régnant en C?

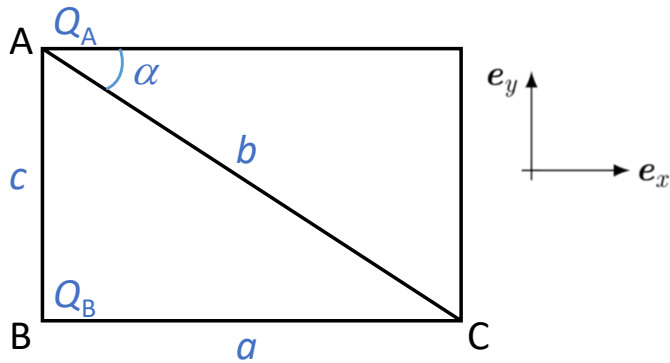
7.1.4 Principe de superposition : exemple

- Soit trois points A, B et C qui forment un triangle ABC rectangle en B. On note respectivement a , b et c la longueur des côtés opposés à ces points. Deux charges électriques ponctuelles Q_A et Q_B sont maintenues en A et B, respectivement. Que vaut le carré de la norme du champ électrique régnant en C?



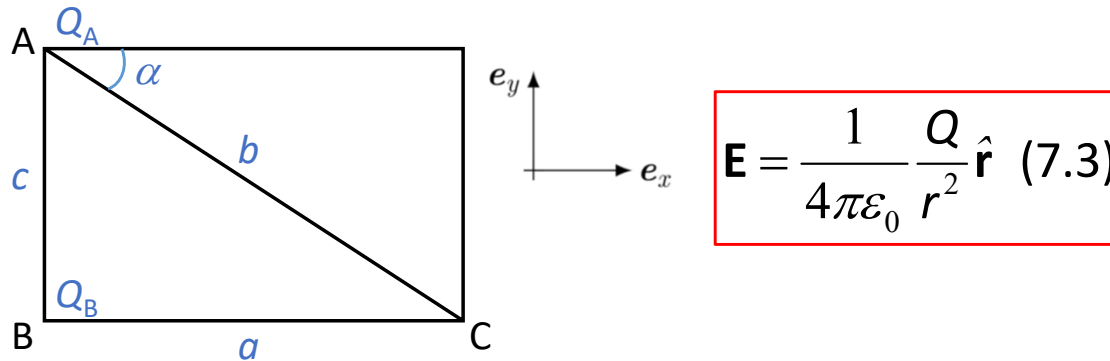
7.1.4 Principe de superposition : exemple

- Soit trois points A, B et C qui forment un triangle ABC rectangle en B. On note respectivement a , b et c la longueur des côtés opposés à ces points. Deux charges électriques ponctuelles Q_A et Q_B sont maintenues en A et B, respectivement. Que vaut le carré de la norme du champ électrique régnant en C?



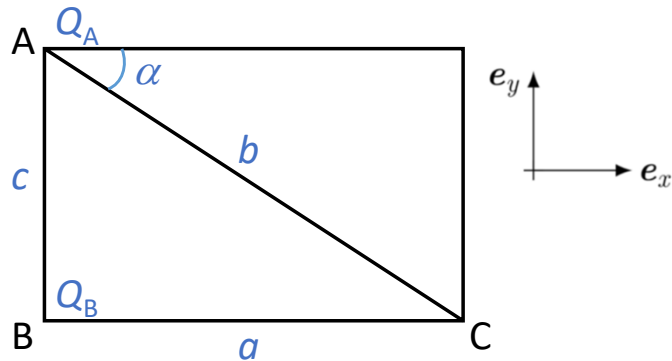
7.1.4 Principe de superposition : exemple

- Soit trois points A, B et C qui forment un triangle ABC rectangle en B. On note respectivement a , b et c la longueur des côtés opposés à ces points. Deux charges électriques ponctuelles Q_A et Q_B sont maintenues en A et B, respectivement. Que vaut le carré de la norme du champ électrique régnant en C?



7.1.4 Principe de superposition : exemple

- Soit trois points A, B et C qui forment un triangle ABC rectangle en B. On note respectivement a , b et c la longueur des côtés opposés à ces points. Deux charges électriques ponctuelles Q_A et Q_B sont maintenues en A et B, respectivement. Que vaut le carré de la norme du champ électrique régnant en C?

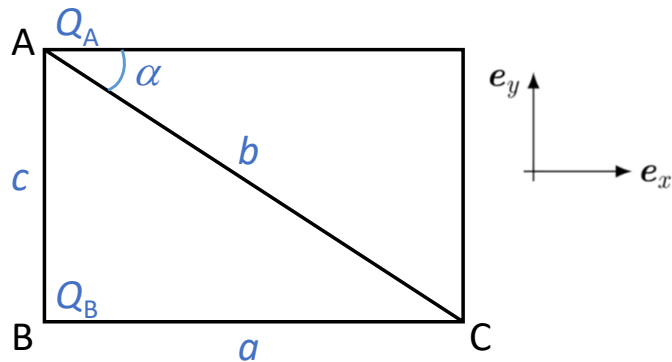


$$\mathbf{E} = \frac{1}{4\pi\epsilon_0} \frac{Q}{r^2} \hat{\mathbf{r}} \quad (7.3)$$

$$\mathbf{E}_C = \frac{1}{4\pi\epsilon_0} \frac{Q_A}{b^2} \mathbf{e}_{r_1} + \frac{1}{4\pi\epsilon_0} \frac{Q_B}{a^2} \mathbf{e}_{r_2}$$

7.1.4 Principe de superposition : exemple

- Soit trois points A, B et C qui forment un triangle ABC rectangle en B. On note respectivement a , b et c la longueur des côtés opposés à ces points. Deux charges électriques ponctuelles Q_A et Q_B sont maintenues en A et B, respectivement. Que vaut le carré de la norme du champ électrique régnant en C?



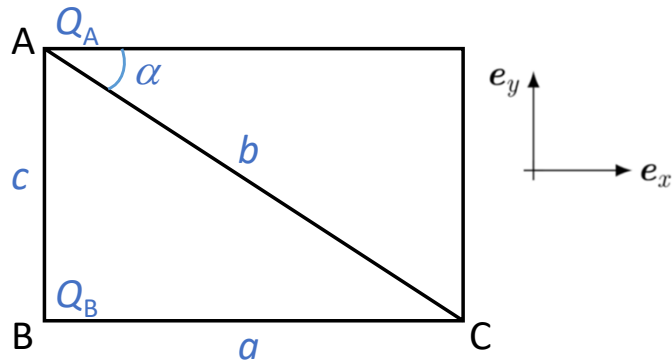
$$\mathbf{E} = \frac{1}{4\pi\epsilon_0} \frac{Q}{r^2} \hat{\mathbf{r}} \quad (7.3)$$

$$\mathbf{E}_C = \frac{1}{4\pi\epsilon_0} \frac{Q_A}{b^2} \mathbf{e}_{r_1} + \frac{1}{4\pi\epsilon_0} \frac{Q_B}{a^2} \mathbf{e}_{r_2}$$

$$E_C^2 = \mathbf{E}_C \cdot \mathbf{E}_C = \left(\frac{1}{4\pi\epsilon_0} \right)^2 \left[\frac{Q_A^2}{b^4} + \frac{Q_B^2}{a^4} + 2 \frac{Q_A Q_B}{b^2 a^2} \mathbf{e}_{r_1} \cdot \mathbf{e}_{r_2} \right]$$

7.1.4 Principe de superposition : exemple

- Soit trois points A, B et C qui forment un triangle ABC rectangle en B. On note respectivement a , b et c la longueur des côtés opposés à ces points. Deux charges électriques ponctuelles Q_A et Q_B sont maintenues en A et B, respectivement. Que vaut le carré de la norme du champ électrique régnant en C?



$$\mathbf{E} = \frac{1}{4\pi\epsilon_0} \frac{Q}{r^2} \hat{\mathbf{r}} \quad (7.3)$$

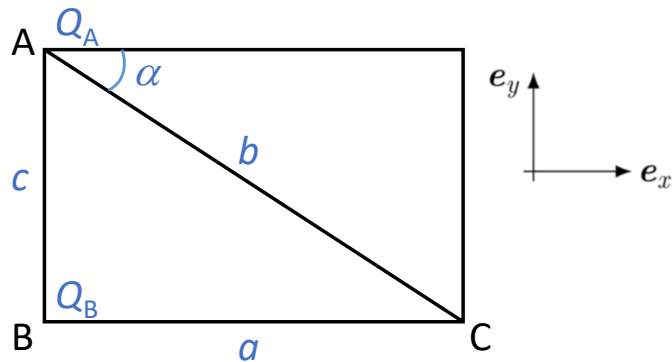
$$\mathbf{E}_C = \frac{1}{4\pi\epsilon_0} \frac{Q_A}{b^2} \mathbf{e}_{r_1} + \frac{1}{4\pi\epsilon_0} \frac{Q_B}{a^2} \mathbf{e}_{r_2}$$

$$E_C^2 = \mathbf{E}_C \cdot \mathbf{E}_C = \left(\frac{1}{4\pi\epsilon_0} \right)^2 \left[\frac{Q_A^2}{b^4} + \frac{Q_B^2}{a^4} + 2 \frac{Q_A Q_B}{b^2 a^2} \mathbf{e}_{r_1} \cdot \mathbf{e}_{r_2} \right]$$

⚠ $\mathbf{e}_{r_1} \cdot \mathbf{e}_{r_2} \neq 1$

7.1.4 Principe de superposition : exemple

- Soit trois points A, B et C qui forment un triangle ABC rectangle en B. On note respectivement a , b et c la longueur des côtés opposés à ces points. Deux charges électriques ponctuelles Q_A et Q_B sont maintenues en A et B, respectivement. Que vaut le carré de la norme du champ électrique régnant en C?



$$\mathbf{E} = \frac{1}{4\pi\epsilon_0} \frac{Q}{r^2} \hat{\mathbf{r}} \quad (7.3)$$

$$\mathbf{E}_C = \frac{1}{4\pi\epsilon_0} \frac{Q_A}{b^2} \mathbf{e}_{r_1} + \frac{1}{4\pi\epsilon_0} \frac{Q_B}{a^2} \mathbf{e}_{r_2}$$

$$E_C^2 = \mathbf{E}_C \cdot \mathbf{E}_C = \left(\frac{1}{4\pi\epsilon_0} \right)^2 \left[\frac{Q_A^2}{b^4} + \frac{Q_B^2}{a^4} + 2 \frac{Q_A Q_B}{b^2 a^2} \mathbf{e}_{r_1} \cdot \mathbf{e}_{r_2} \right]$$

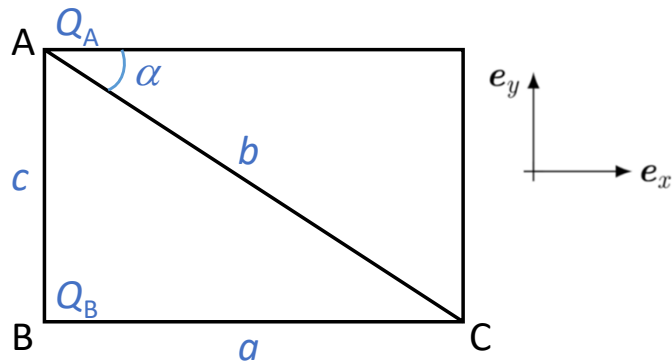


$$\mathbf{e}_{r_1} \cdot \mathbf{e}_{r_2} \neq 1 \quad \mathbf{e}_{r_2} \equiv \mathbf{e}_x \quad \text{et} \quad \mathbf{e}_{r_1} = \frac{a}{b} \mathbf{e}_x + \frac{c}{b} \mathbf{e}_y \quad (\text{et } c^2 = b^2 - a^2)$$

$$\mathbf{e}_{r_1} \cdot \mathbf{e}_{r_2} = \frac{a}{b}$$

7.1.4 Principe de superposition : exemple

- Soit trois points A, B et C qui forment un triangle ABC rectangle en B. On note respectivement a , b et c la longueur des côtés opposés à ces points. Deux charges électriques ponctuelles Q_A et Q_B sont maintenues en A et B, respectivement. Que vaut le carré de la norme du champ électrique régnant en C?



$$\mathbf{E} = \frac{1}{4\pi\epsilon_0} \frac{Q}{r^2} \hat{\mathbf{r}} \quad (7.3)$$

$$\mathbf{E}_C = \frac{1}{4\pi\epsilon_0} \frac{Q_A}{b^2} \mathbf{e}_{r_1} + \frac{1}{4\pi\epsilon_0} \frac{Q_B}{a^2} \mathbf{e}_{r_2}$$

$$E_C^2 = \mathbf{E}_C \cdot \mathbf{E}_C = \left(\frac{1}{4\pi\epsilon_0} \right)^2 \left[\frac{Q_A^2}{b^4} + \frac{Q_B^2}{a^4} + 2 \frac{Q_A Q_B}{b^2 a^2} \mathbf{e}_{r_1} \cdot \mathbf{e}_{r_2} \right]$$



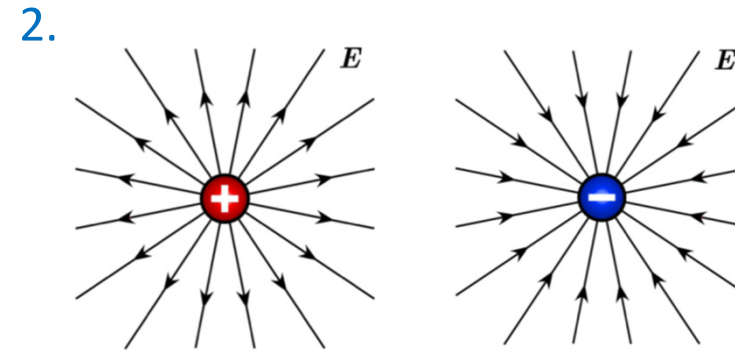
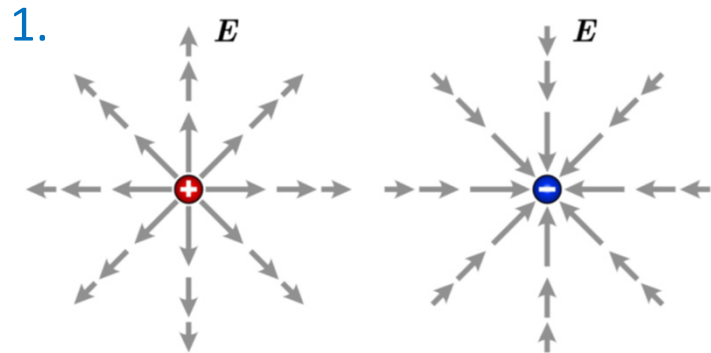
$$\mathbf{e}_{r_1} \cdot \mathbf{e}_{r_2} \neq 1$$

$$\mathbf{e}_{r_2} \equiv \mathbf{e}_x \quad \text{et} \quad \mathbf{e}_{r_1} = \frac{a}{b} \mathbf{e}_x + \frac{c}{b} \mathbf{e}_y \quad (\text{et } c^2 = b^2 - a^2)$$

$$\mathbf{e}_{r_1} \cdot \mathbf{e}_{r_2} = \frac{a}{b}$$

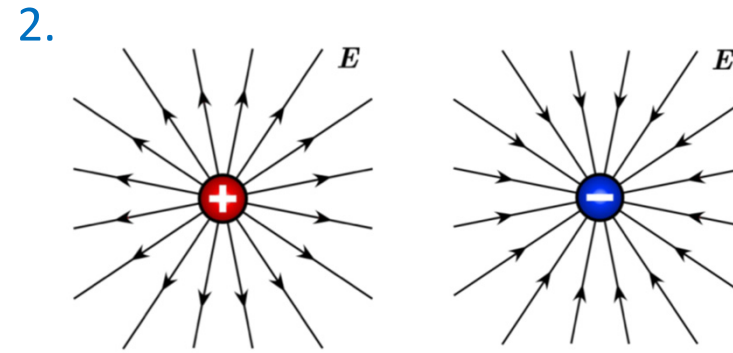
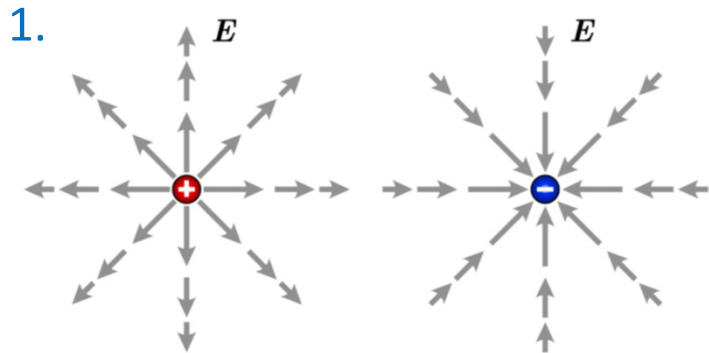
$$E_C^2 = \mathbf{E}_C \cdot \mathbf{E}_C = \left(\frac{1}{4\pi\epsilon_0} \right)^2 \left[\frac{Q_A^2}{b^4} + \frac{Q_B^2}{a^4} + 2 \frac{Q_A Q_B}{b^3 a} \right]$$

7.1.5 Lignes de champ électrique



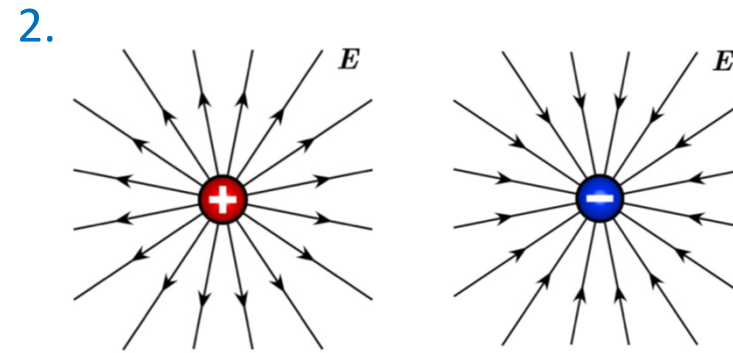
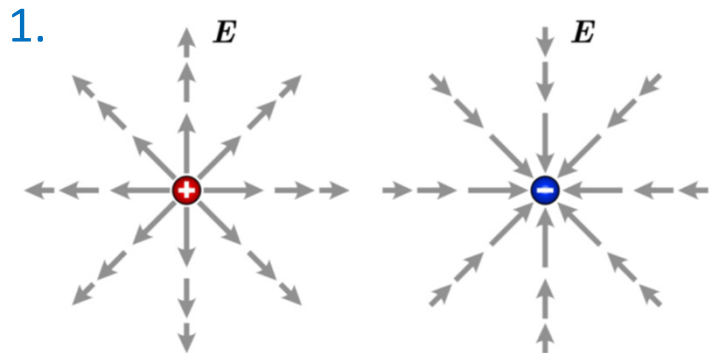
7.1.5 Lignes de champ électrique

1. Le champ électrique \mathbf{E} est défini en tout point de l'espace. On peut donc associer un vecteur avec une norme et une orientation donnée à chaque point de l'espace.



7.1.5 Lignes de champ électrique

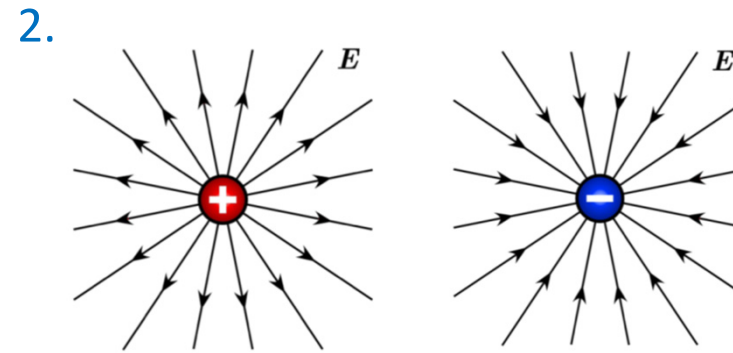
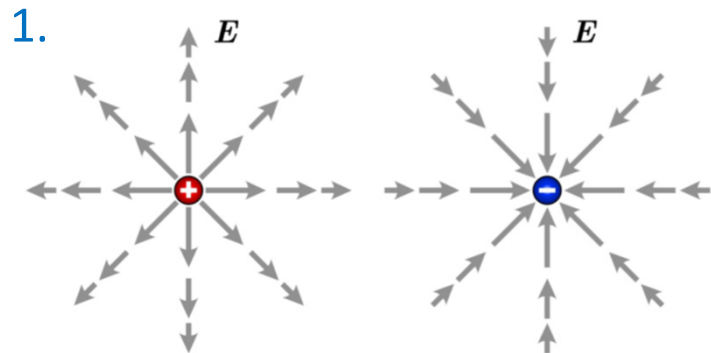
1. Le champ électrique \mathbf{E} est défini en tout point de l'espace. On peut donc associer un vecteur avec une norme et une orientation donnée à chaque point de l'espace.



2. Les vecteurs champs électriques sont tangents à des lignes (ou courbes) appelées lignes de champ électrique.

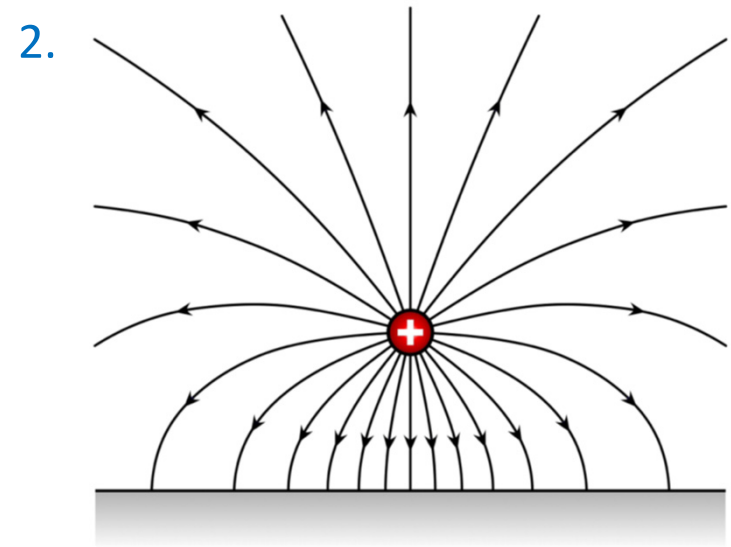
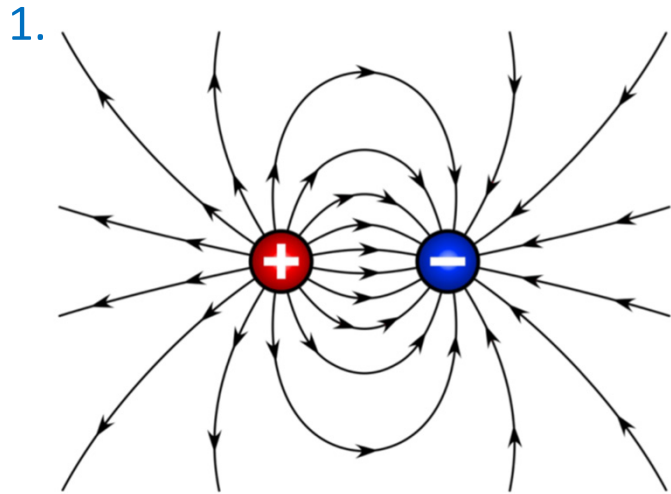
7.1.5 Lignes de champ électrique

1. Le champ électrique \mathbf{E} est défini en tout point de l'espace. On peut donc associer un vecteur avec une norme et une orientation donnée à chaque point de l'espace.



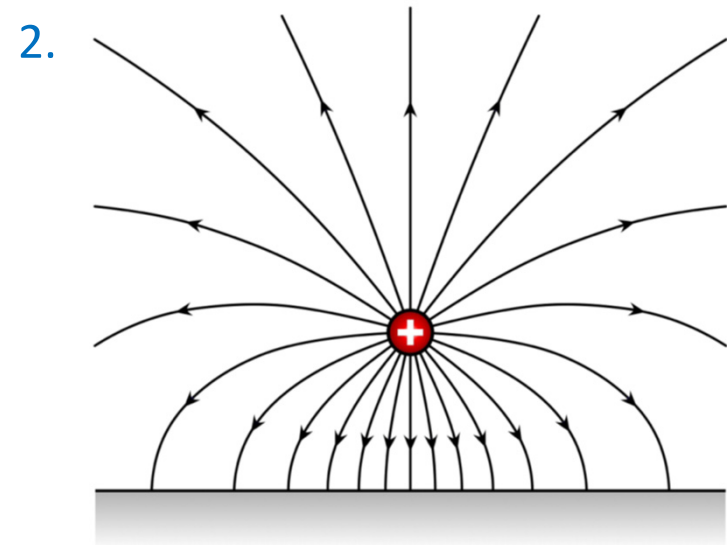
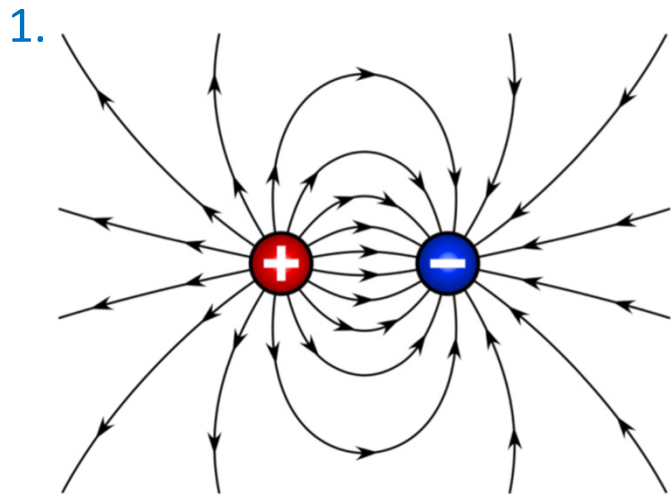
2. Les vecteurs champs électriques sont tangents à des lignes (ou courbes) appelées lignes de champ électrique.
 - Pour une charge électrique positive, les lignes de champ sont orientées vers l'extérieur.
 - Pour une charge électrique négative, les lignes de champ sont orientées vers l'intérieur.

7.1.5 Lignes de champ électrique



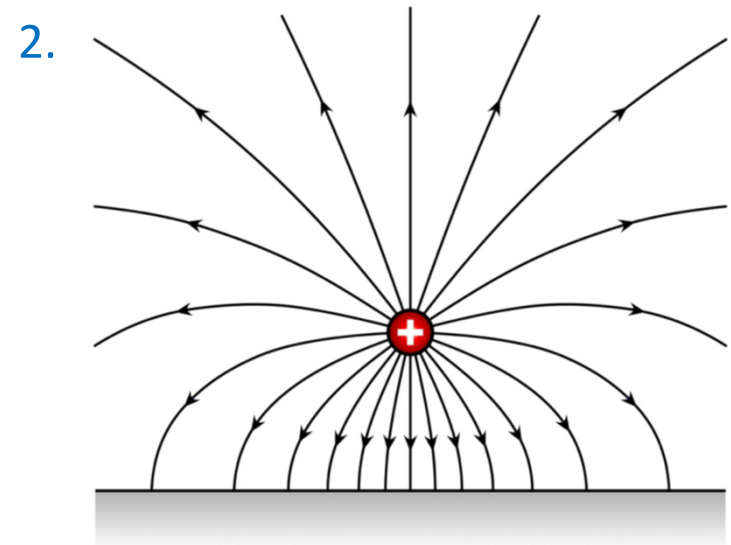
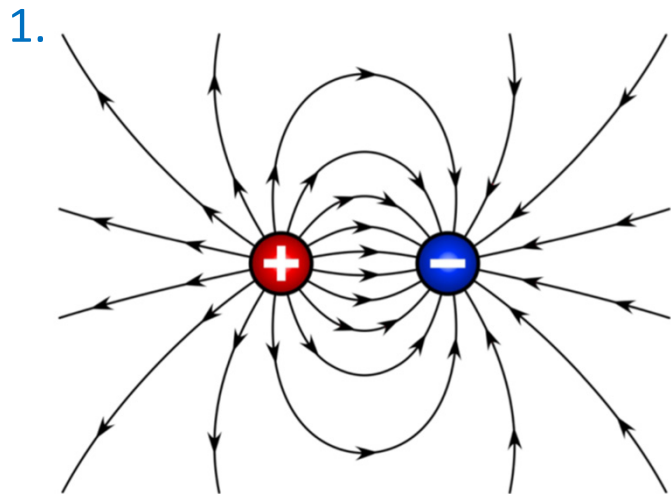
7.1.5 Lignes de champ électrique

1. Lignes de champ électrique pour un système constitué de deux charges de signe opposé (dipôle).
2. Lignes de champ électrique pour un système constitué d'une charge électrique positive et d'une plaque conductrice chargée négativement.



7.1.5 Lignes de champ électrique

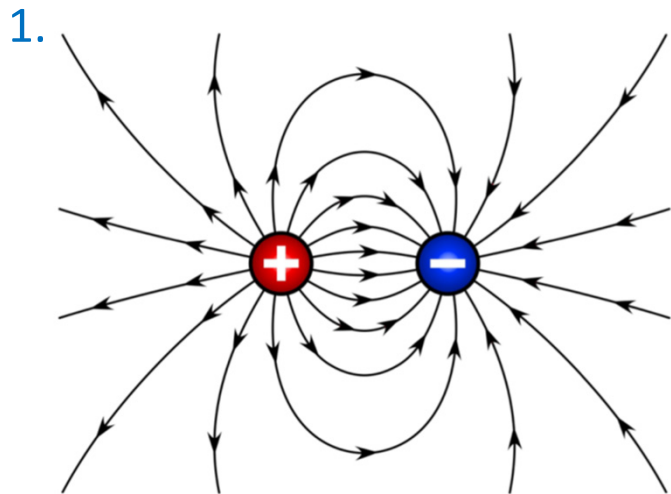
1. Lignes de champ électrique pour un système constitué de deux charges de signe opposé (dipôle).
2. Lignes de champ électrique pour un système constitué d'une charge électrique positive et d'une plaque conductrice chargée négativement.



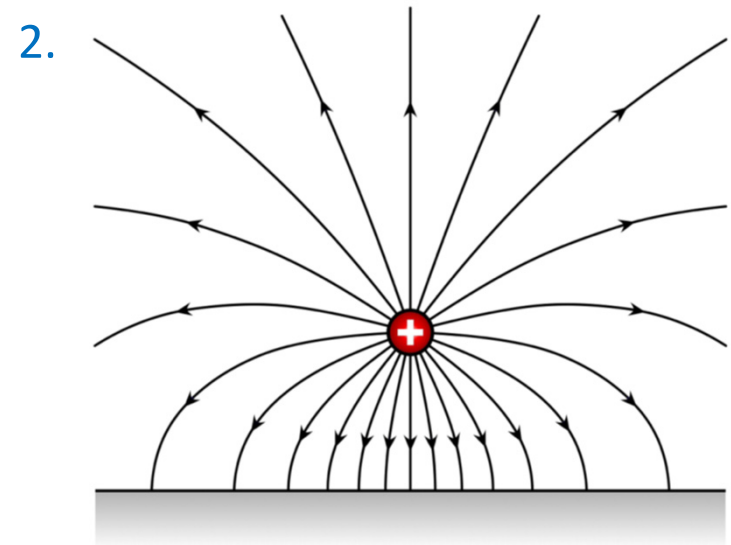
- Les lignes de champ vont de la charge positive vers la charge négative.

7.1.5 Lignes de champ électrique

1. Lignes de champ électrique pour un système constitué de deux charges de signe opposé (dipôle).
2. Lignes de champ électrique pour un système constitué d'une charge électrique positive et d'une plaque conductrice chargée négativement.



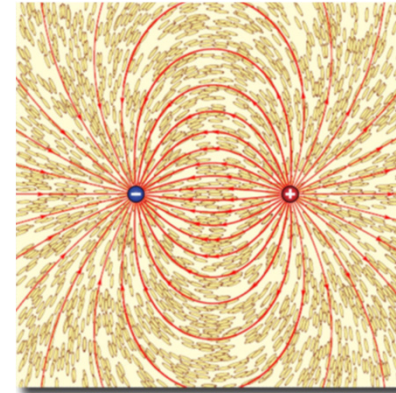
- Les lignes de champ vont de la charge positive vers la charge négative.



- Les lignes de champ ne se croisent pas.

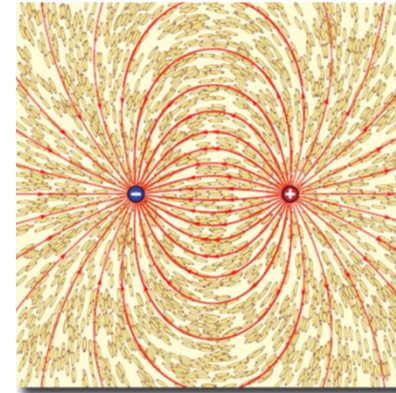

7.1.5 Lignes de champ électrique

Expérience :



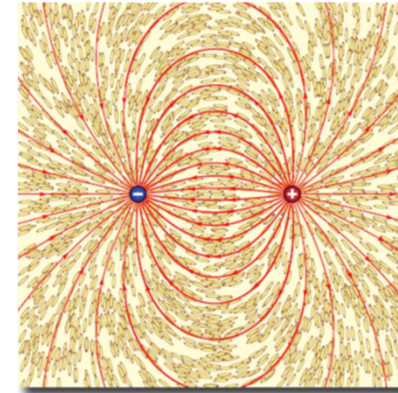

7.1.5 Lignes de champ électrique

Expérience : Lignes de champ électrique



7.1.5 Lignes de champ électrique

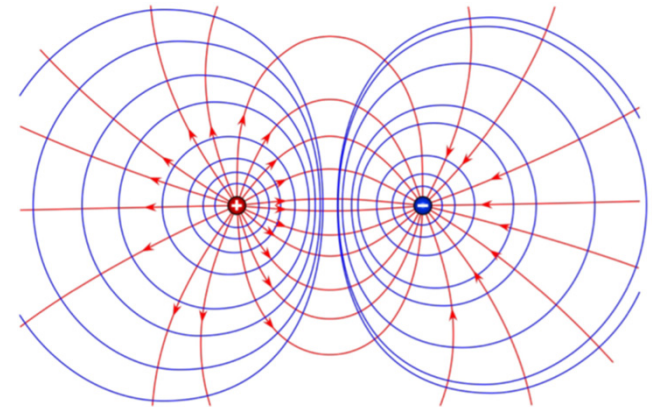
Expérience : Lignes de champ électrique



On établit une tension d'environ 20 kV entre les deux électrodes, puis on saupoudre l'huile de ricin contenant la semoule autour des électrodes. Les grains de semoule sont constitués de petits dipôles qui s'orientent selon les lignes de champ électrique.

7.2 Potentiel électrique et tension

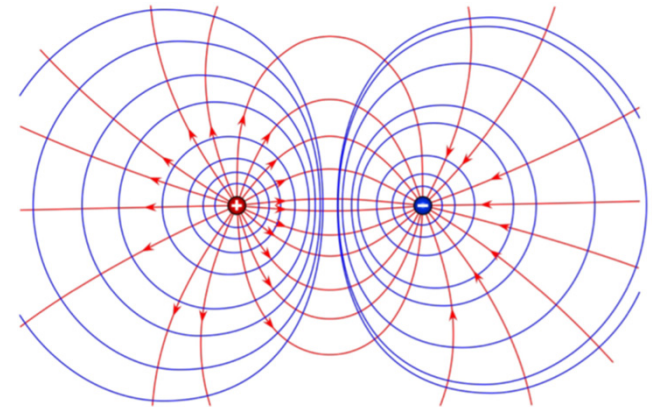
7.2 Potentiel électrique



7.2 Potentiel électrique

- Le potentiel électrique $\Phi(\mathbf{r})$ est un champ scalaire et intensif défini comme l'énergie potentielle électrique par unité de charge q :

$$E_{\text{pot}}(\mathbf{r}) = q\Phi(\mathbf{r}) \quad (7.6)$$



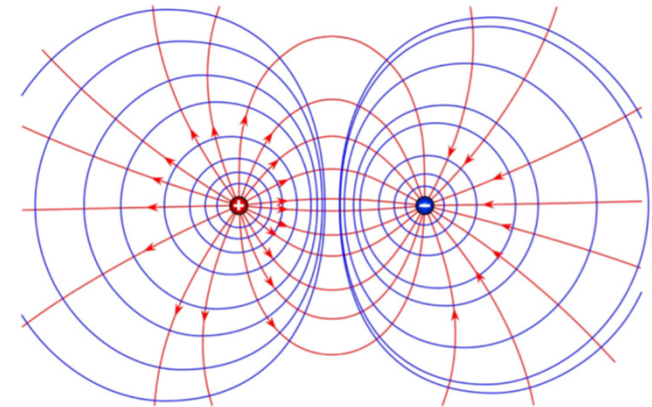
7.2 Potentiel électrique

- Le potentiel électrique $\Phi(\mathbf{r})$ est un champ scalaire et intensif défini comme l'énergie potentielle électrique par unité de charge q :

$$E_{\text{pot}}(\mathbf{r}) = q\Phi(\mathbf{r}) \quad (7.6)$$

- Travail de la force électrique sur une charge q de \mathbf{r}_1 à \mathbf{r}_2 :

$$W_{1 \rightarrow 2}(\mathbf{F}) = E_{\text{pot}}(\mathbf{r}_1) - E_{\text{pot}}(\mathbf{r}_2) = q(\Phi(\mathbf{r}_1) - \Phi(\mathbf{r}_2)) \equiv q(\Phi_1 - \Phi_2) \quad (7.7)$$



7.2 Potentiel électrique

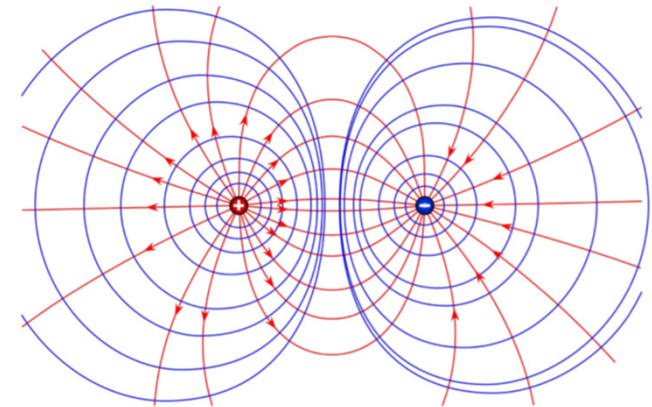
- Le potentiel électrique $\Phi(\mathbf{r})$ est un champ scalaire et intensif défini comme l'énergie potentielle électrique par unité de charge q :

$$E_{\text{pot}}(\mathbf{r}) = q\Phi(\mathbf{r}) \quad (7.6)$$

- Travail de la force électrique sur une charge q de \mathbf{r}_1 à \mathbf{r}_2 :

$$W_{1 \rightarrow 2}(\mathbf{F}) = E_{\text{pot}}(\mathbf{r}_1) - E_{\text{pot}}(\mathbf{r}_2) = q(\Phi(\mathbf{r}_1) - \Phi(\mathbf{r}_2)) \equiv q(\Phi_1 - \Phi_2) \quad (7.7)$$

- Unité physique (SI) : le Volt $[\text{J.C}^{-1}] = [\text{kg.m}^2.\text{A}^{-1}.\text{s}^{-3}]$



7.2 Potentiel électrique

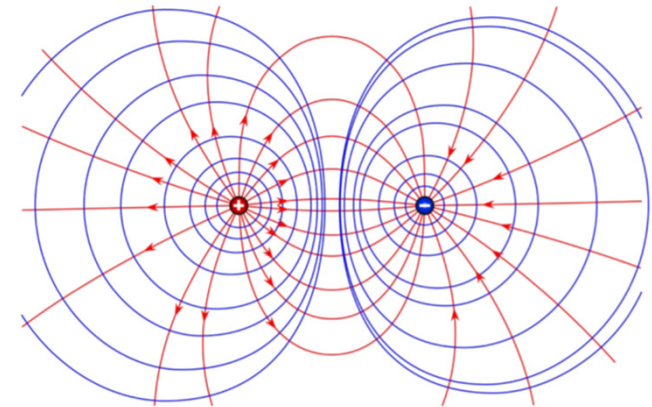
- Le potentiel électrique $\Phi(\mathbf{r})$ est un champ scalaire et intensif défini comme l'énergie potentielle électrique par unité de charge q :

$$E_{\text{pot}}(\mathbf{r}) = q\Phi(\mathbf{r}) \quad (7.6)$$

- Travail de la force électrique sur une charge q de \mathbf{r}_1 à \mathbf{r}_2 :

$$W_{1 \rightarrow 2}(\mathbf{F}) = E_{\text{pot}}(\mathbf{r}_1) - E_{\text{pot}}(\mathbf{r}_2) = q(\Phi(\mathbf{r}_1) - \Phi(\mathbf{r}_2)) \equiv q(\Phi_1 - \Phi_2) \quad (7.7)$$

- Unité physique (SI) : le Volt $[\text{J.C}^{-1}] = [\text{kg.m}^2.\text{A}^{-1}.\text{s}^{-3}]$
- Équipotentielle : courbe dont les points ont la même valeur du potentiel $\Phi(\mathbf{r})$.
- Les équipotentiels (en bleu) sont orthogonales aux lignes de champ électrique (en rouge).



7.2.1 Tension électrique



Alessandro Volta

7.2.1 Tension électrique

La tension électrique U_{12} entre les positions \mathbf{r}_1 et \mathbf{r}_2 est une grandeur scalaire définie comme le travail de la force électrique $\mathbf{F} = q\mathbf{E}$ par unité de charge q :

$$U_{12} = \frac{W_{1 \rightarrow 2}(\mathbf{F})}{q} = \int_{\mathbf{r}_1}^{\mathbf{r}_2} \underbrace{\mathbf{E}(\mathbf{r})}_{=\frac{\mathbf{F}(\mathbf{r})}{q}} \cdot d\mathbf{r} = \underbrace{\Phi_1 - \Phi_2}_{=\frac{E_{\text{pot}}(1) - E_{\text{pot}}(2)}{q}} \quad (7.8)$$



Alessandro Volta

7.2.1 Tension électrique

La tension électrique U_{12} entre les positions \mathbf{r}_1 et \mathbf{r}_2 est une grandeur scalaire définie comme le travail de la force électrique $\mathbf{F} = q\mathbf{E}$ par unité de charge q :

$$U_{12} = \frac{W_{1 \rightarrow 2}(\mathbf{F})}{q} = \int_{\mathbf{r}_1}^{\mathbf{r}_2} \underbrace{\mathbf{E}(\mathbf{r})}_{=\frac{\mathbf{F}(\mathbf{r})}{q}} \cdot d\mathbf{r} = \underbrace{\Phi_1 - \Phi_2}_{=\frac{E_{\text{pot}}(1) - E_{\text{pot}}(2)}{q}} \quad (7.8)$$

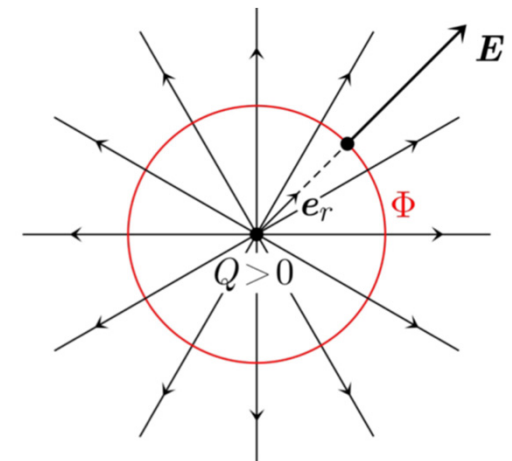
Propriétés :

1. U_{12} ne dépend que des positions 1 et 2 (indép. du chemin).
2. $U_{21} = -U_{12}$ (chemin inverse).
3. $U_{11} = 0$ (chemin fermé).
4. $U_{12} + U_{23} = U_{13}$
5. Le champ électrique \mathbf{E} va du potentiel électrique positif vers le potentiel électrique négatif.



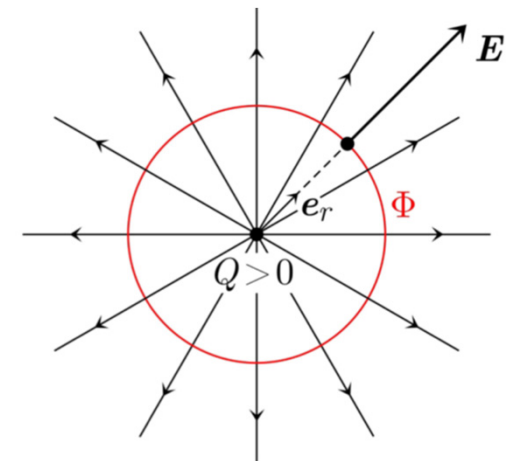
Alessandro Volta

7.2.1 Tension électrique



7.2.1 Tension électrique

- Unité d'énergie : l'électron-volt : $1 \text{ eV} = 1,602 \times 10^{-19} \text{ J}$. C'est l'énergie reçue par une charge élémentaire sous une tension de 1 V .



7.2.1 Tension électrique

- Unité d'énergie : l'électron-volt : $1 \text{ eV} = 1,602 \times 10^{-19} \text{ J}$. C'est l'énergie reçue par une charge élémentaire sous une tension de 1 V .

Exemples de tension :

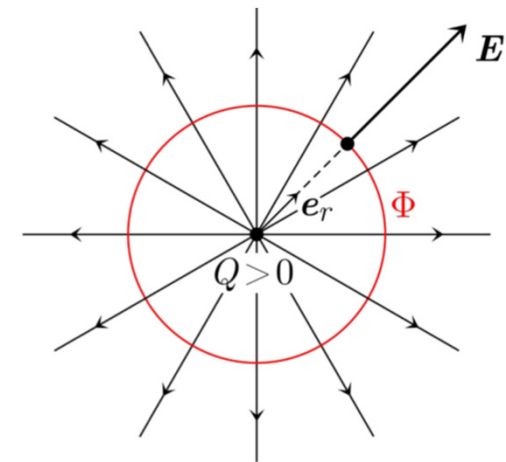
- Charge ponctuelle $Q > 0$ (champ électrique radial)

$$\mathbf{E}(\mathbf{r}) = \frac{1}{4\pi\epsilon_0} \frac{Q}{r^2} \hat{\mathbf{r}} \quad (7.3) \quad \mathbf{e}_r \cdot d\mathbf{r}' = dr'$$

$$\Phi(\mathbf{r}) = -\int_{r_\infty}^r \mathbf{E}(\mathbf{r}') \cdot d\mathbf{r}' = -\frac{Q}{4\pi\epsilon_0} \int_{r_\infty}^r \frac{dr'}{r'^2} = \frac{1}{4\pi\epsilon_0} \frac{Q}{r} \quad (7.9)$$

$$U_{12} = \Phi_1 - \Phi_2 = \Phi(r_1) - \Phi(r_2) = \frac{Q}{4\pi\epsilon_0} \left(\frac{1}{r_1} - \frac{1}{r_2} \right) \quad (7.10)$$

$$\mathbf{e}_r \equiv \hat{\mathbf{r}}$$



7.2.1 Tension électrique

- Unité d'énergie : l'électron-volt : $1 \text{ eV} = 1,602 \times 10^{-19} \text{ J}$. C'est l'énergie reçue par une charge élémentaire sous une tension de 1 V .

Exemples de tension :

- Charge ponctuelle $Q > 0$ (champ électrique radial)

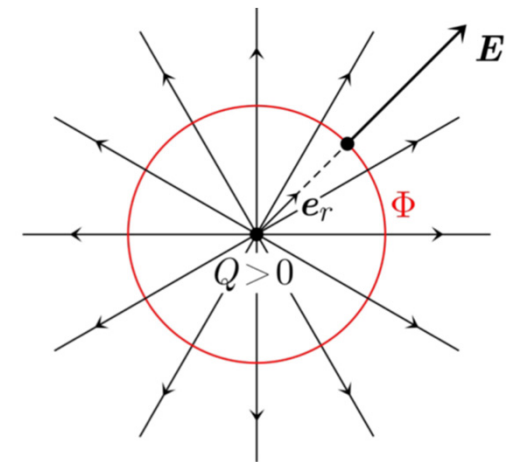
$$\mathbf{E}(\mathbf{r}) = \frac{1}{4\pi\epsilon_0} \frac{Q}{r^2} \hat{\mathbf{r}} \quad (7.3) \quad \mathbf{e}_r \cdot d\mathbf{r}' = dr'$$

$$\Phi(\mathbf{r}) = -\int_{r_\infty}^r \mathbf{E}(\mathbf{r}') \cdot d\mathbf{r}' = -\frac{Q}{4\pi\epsilon_0} \int_{r_\infty}^r \frac{dr'}{r'^2} = \frac{1}{4\pi\epsilon_0} \frac{Q}{r} \quad (7.9)$$

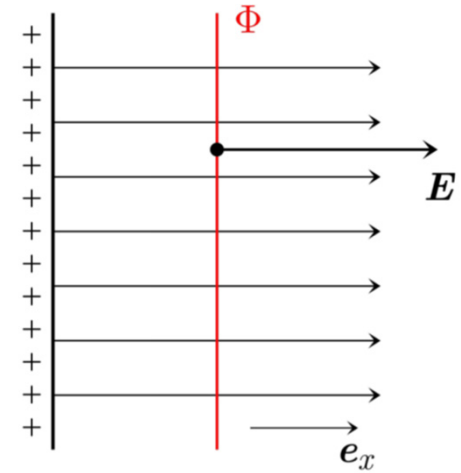
$$U_{12} = \Phi_1 - \Phi_2 = \Phi(r_1) - \Phi(r_2) = \frac{Q}{4\pi\epsilon_0} \left(\frac{1}{r_1} - \frac{1}{r_2} \right) \quad (7.10)$$

- Les lignes de champ électrique sont radiales et les équipotentiels sont des cercles centrés sur la charge Q .

$$\mathbf{e}_r \equiv \hat{\mathbf{r}}$$



7.2.1 Tension électrique



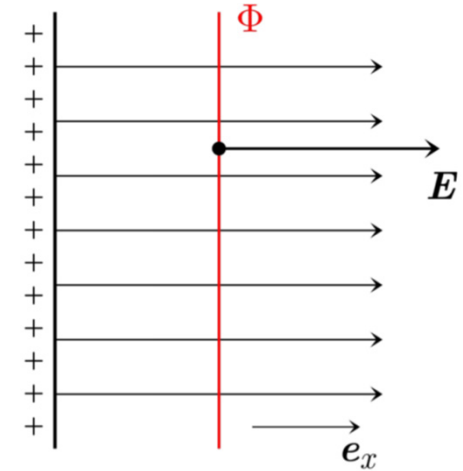
7.2.1 Tension électrique

2. Plaque infinie (champ électrique uniforme)

$$\mathbf{E}(\mathbf{r}) = \mathbf{E}_0 = E_0 \mathbf{e}_x \quad (7.11) \quad d\mathbf{r}' = dx' \mathbf{e}_x$$

$$\Phi(\mathbf{r}) = -\int_{r_\infty}^{\mathbf{r}} \mathbf{E}(\mathbf{r}') \cdot d\mathbf{r}' = -E_0 \int_{x_\infty}^x \mathbf{e}_x \cdot d\mathbf{r}' = -E_0 (x - x_\infty) \quad (7.12)$$

$$U_{12} = \Phi_1 - \Phi_2 = \Phi(r_1) - \Phi(r_2) = E_0 (x_2 - x_1) \quad (7.13)$$



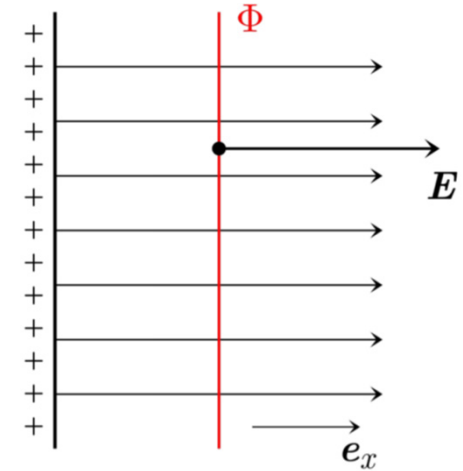
7.2.1 Tension électrique

2. Plaque infinie (champ électrique uniforme)

$$\mathbf{E}(\mathbf{r}) = \mathbf{E}_0 = E_0 \mathbf{e}_x \quad (7.11) \quad d\mathbf{r}' = dx' \mathbf{e}_x$$

$$\Phi(\mathbf{r}) = -\int_{r_\infty}^{\mathbf{r}} \mathbf{E}(\mathbf{r}') \cdot d\mathbf{r}' = -E_0 \int_{x_\infty}^x \mathbf{e}_x \cdot d\mathbf{r}' = -E_0 (x - x_\infty) \quad (7.12)$$

$$U_{12} = \Phi_1 - \Phi_2 = \Phi(r_1) - \Phi(r_2) = E_0 (x_2 - x_1) \quad (7.13)$$



- Les lignes de champ électrique sont orthogonales à la plaque et les équipotentielles sont des droites parallèles à la plaque dans le plan vertical.

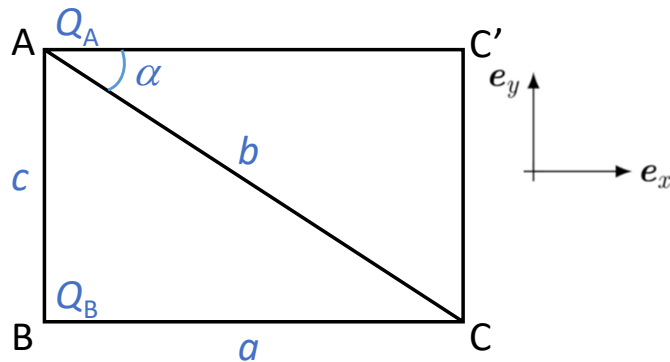
7.2.1 Tension électrique : exemple

7.2.1 Tension électrique : exemple

- Soit trois points A, B et C qui forment un triangle ABC rectangle en B. On note respectivement a , b et c la longueur des côtés opposés à ces points. Deux charges électriques ponctuelles Q_A et Q_B sont maintenues en A et B, respectivement. Que vaut la tension entre C et C', ce dernier point complétant le rectangle ABCC'?

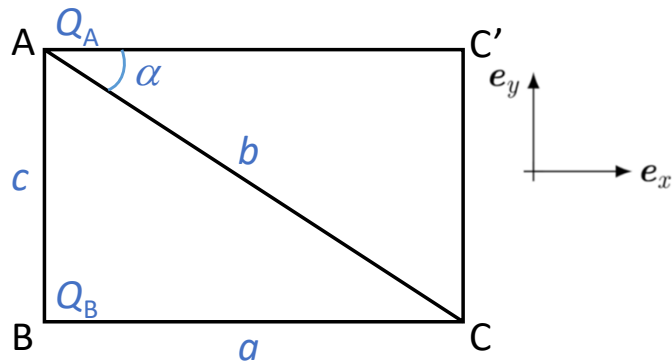
7.2.1 Tension électrique : exemple

- Soit trois points A, B et C qui forment un triangle ABC rectangle en B. On note respectivement a , b et c la longueur des côtés opposés à ces points. Deux charges électriques ponctuelles Q_A et Q_B sont maintenues en A et B, respectivement. Que vaut la tension entre C et C', ce dernier point complétant le rectangle ABCC'?



7.2.1 Tension électrique : exemple

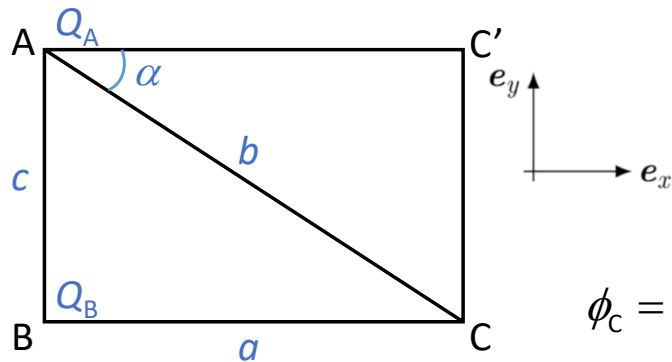
- Soit trois points A, B et C qui forment un triangle ABC rectangle en B. On note respectivement a , b et c la longueur des côtés opposés à ces points. Deux charges électriques ponctuelles Q_A et Q_B sont maintenues en A et B, respectivement. Que vaut la tension entre C et C', ce dernier point complétant le rectangle ABCC'?



$$U_{CC'} = \phi_C - \phi_{C'}$$

7.2.1 Tension électrique : exemple

- Soit trois points A, B et C qui forment un triangle ABC rectangle en B. On note respectivement a , b et c la longueur des côtés opposés à ces points. Deux charges électriques ponctuelles Q_A et Q_B sont maintenues en A et B, respectivement. Que vaut la tension entre C et C', ce dernier point complétant le rectangle ABCC'?



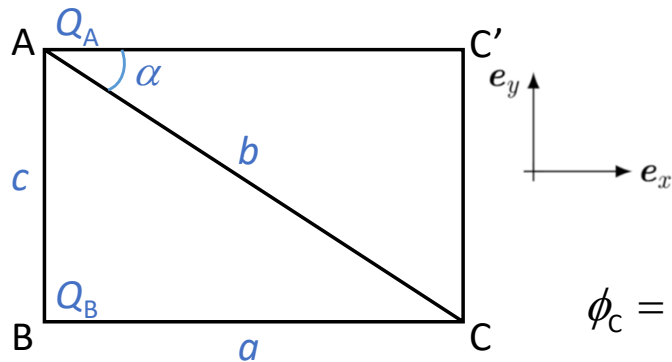
$$U_{CC'} = \phi_C - \phi_{C'}$$

$$\phi_C = \frac{1}{4\pi\epsilon_0} \frac{Q_A}{b} + \frac{1}{4\pi\epsilon_0} \frac{Q_B}{a},$$

$$\phi_{C'} = \frac{1}{4\pi\epsilon_0} \frac{Q_A}{a} + \frac{1}{4\pi\epsilon_0} \frac{Q_B}{b}$$

7.2.1 Tension électrique : exemple

- Soit trois points A, B et C qui forment un triangle ABC rectangle en B. On note respectivement a , b et c la longueur des côtés opposés à ces points. Deux charges électriques ponctuelles Q_A et Q_B sont maintenues en A et B, respectivement. Que vaut la tension entre C et C', ce dernier point complétant le rectangle ABCC'?



$$U_{CC'} = \phi_C - \phi_{C'}$$

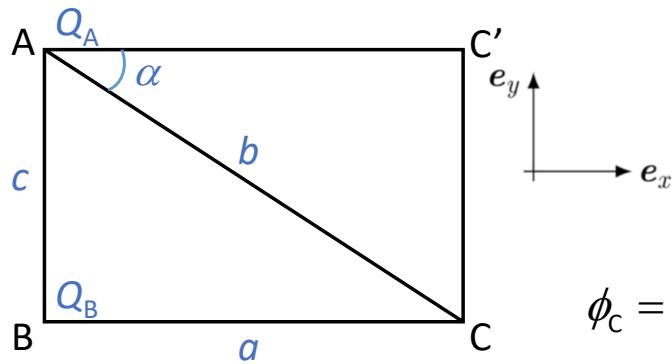
$$\phi_C = \frac{1}{4\pi\epsilon_0} \frac{Q_A}{b} + \frac{1}{4\pi\epsilon_0} \frac{Q_B}{a},$$

$$\Rightarrow U_{CC'} = \frac{1}{4\pi\epsilon_0} \left[\frac{Q_A}{b} + \frac{Q_B}{a} - \frac{Q_A}{a} - \frac{Q_B}{b} \right]$$

$$\phi_{C'} = \frac{1}{4\pi\epsilon_0} \frac{Q_A}{a} + \frac{1}{4\pi\epsilon_0} \frac{Q_B}{b}$$

7.2.1 Tension électrique : exemple

- Soit trois points A, B et C qui forment un triangle ABC rectangle en B. On note respectivement a , b et c la longueur des côtés opposés à ces points. Deux charges électriques ponctuelles Q_A et Q_B sont maintenues en A et B, respectivement. Que vaut la tension entre C et C', ce dernier point complétant le rectangle ABCC'?



$$U_{CC'} = \phi_C - \phi_{C'}$$

$$\phi_C = \frac{1}{4\pi\epsilon_0} \frac{Q_A}{b} + \frac{1}{4\pi\epsilon_0} \frac{Q_B}{a},$$

$$\phi_{C'} = \frac{1}{4\pi\epsilon_0} \frac{Q_A}{a} + \frac{1}{4\pi\epsilon_0} \frac{Q_B}{b}$$

$$\Rightarrow U_{CC'} = \frac{1}{4\pi\epsilon_0} \left[\frac{Q_A}{b} + \frac{Q_B}{a} - \frac{Q_A}{a} - \frac{Q_B}{b} \right]$$

$$U_{CC'} = \frac{Q_A - Q_B}{4\pi\epsilon_0} \frac{(a - b)}{ab}$$

7.2.1 Tension électrique

Expérience :



7.2.1 Tension électrique

Expérience : Générateur de Van de Graaff



7.2.1 Tension électrique

Expérience : Générateur de Van de Graaff

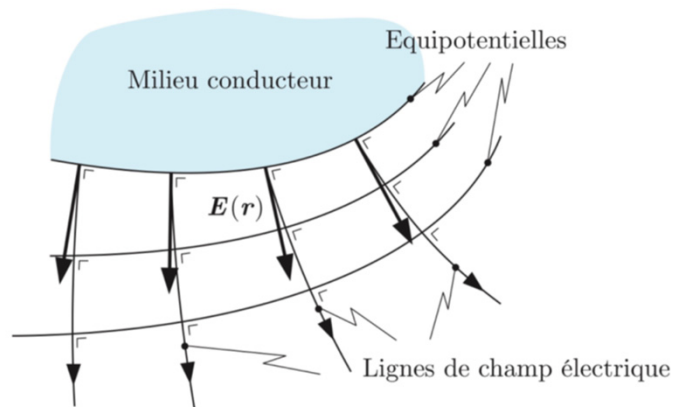


Par contact avec une sphère chargée, la tension entre la tête de la jeune fille et l'air ambiant fait se dresser ses cheveux. Les cheveux s'alignent radialement selon les lignes de champ électrique.

7.3 Conducteurs

7.3 Conducteurs et 7.3.1 champ électrique dans un conducteur

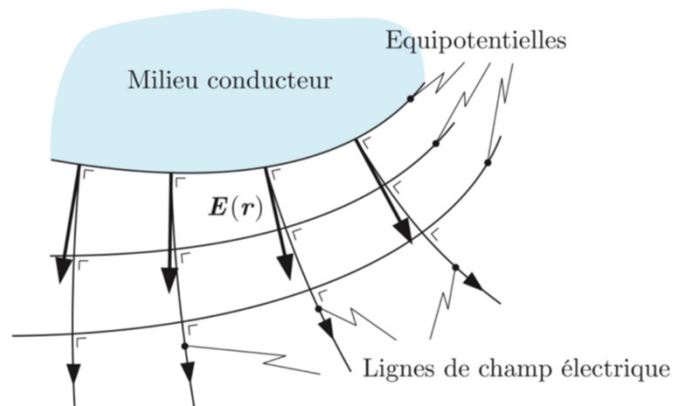
Champ électrique dans un conducteur



7.3 Conducteurs et 7.3.1 champ électrique dans un conducteur

- Un objet est un conducteur si les charges électriques peuvent se déplacer librement à sa surface. Dans le cas contraire, l'objet est un isolant.

Champ électrique dans un conducteur

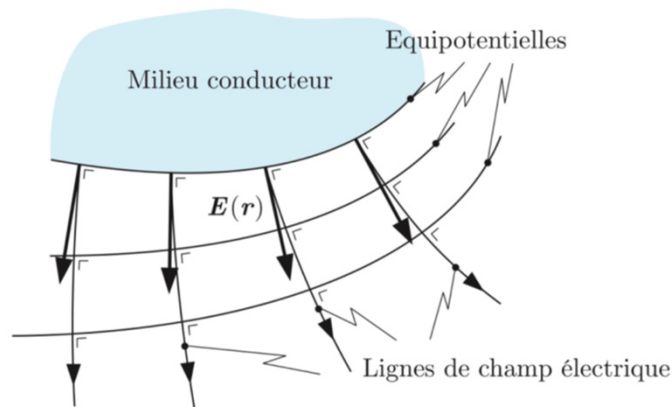


7.3 Conducteurs et 7.3.1 champ électrique dans un conducteur

- Un objet est un conducteur si les charges électriques peuvent se déplacer librement à sa surface. Dans le cas contraire, l'objet est un isolant.

Champ électrique dans un conducteur

- En électrostatique, le champ électrique est nul à l'intérieur d'un conducteur. Cela implique que le potentiel électrique Φ est constant à l'intérieur du conducteur. En l'absence d'un champ électrique extérieur, la surface du conducteur est une équipotentielle.

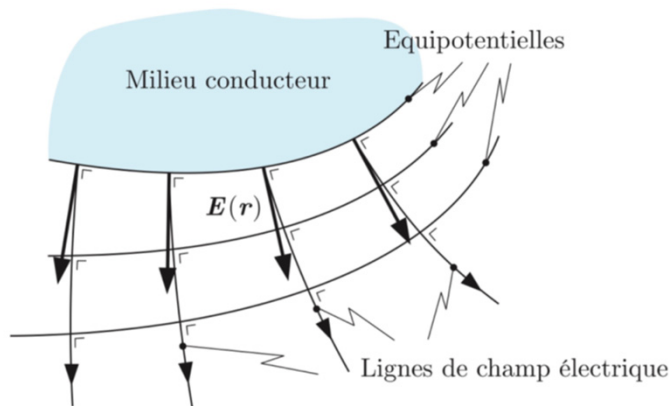


7.3 Conducteurs et 7.3.1 champ électrique dans un conducteur

- Un objet est un conducteur si les charges électriques peuvent se déplacer librement à sa surface. Dans le cas contraire, l'objet est un isolant.

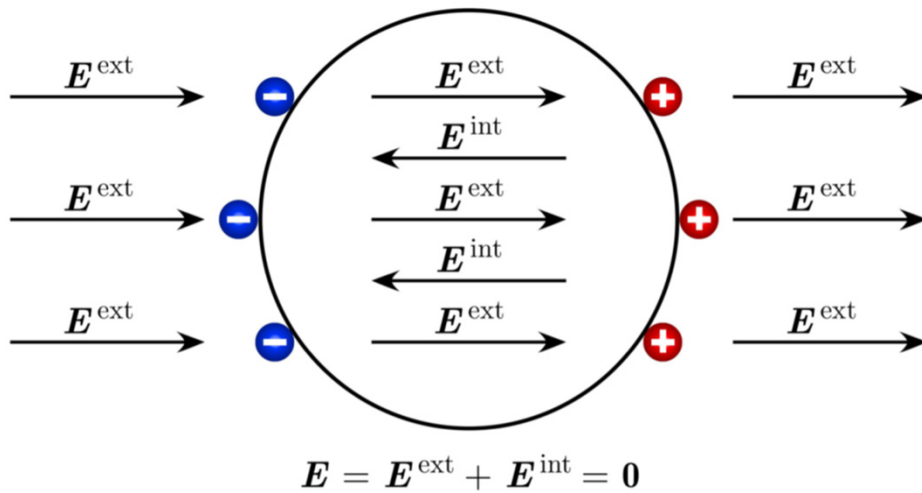
Champ électrique dans un conducteur

- En électrostatique, le champ électrique est nul à l'intérieur d'un conducteur. Cela implique que le potentiel électrique Φ est constant à l'intérieur du conducteur. En l'absence d'un champ électrique extérieur, la surface du conducteur est une équipotentielle.



- Le champ électrique \mathbf{E} n'est pas défini à la surface (discontinuité) mais on peut prendre la limite extérieure.

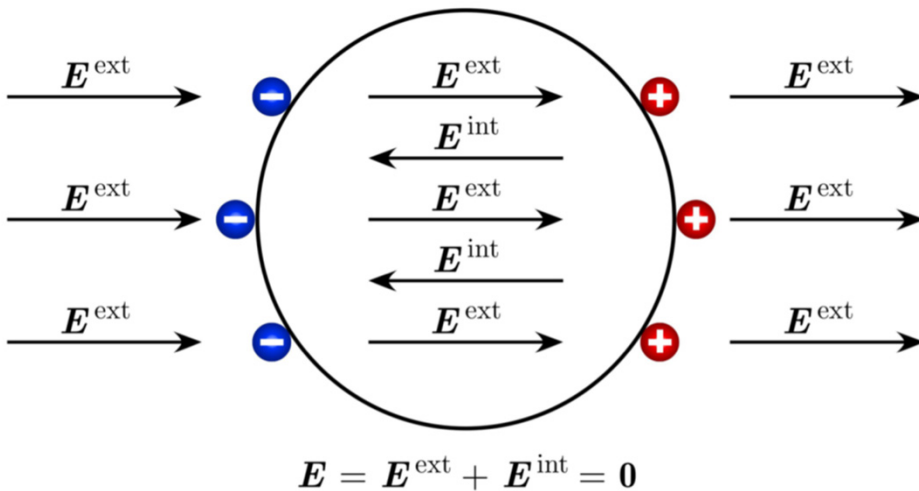
7.3.2 Phénomène d'influence (dû à la force de Coulomb)



7.3.2 Phénomène d'influence (dû à la force de Coulomb)

En présence d'un champ électrique extérieur \mathbf{E}^{ext} supposé uniforme, les charges à la surface d'un conducteur se séparent afin de générer un champ électrique \mathbf{E}^{int} qui compense exactement le champ électrique \mathbf{E}^{ext} de sorte que le champ électrique résultant \mathbf{E} à l'intérieur du conducteur (cavité) soit nul :

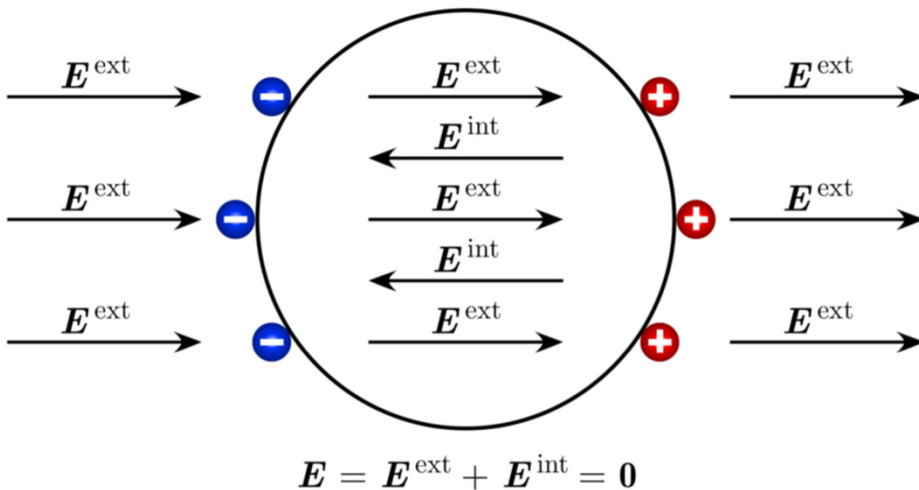
$$\mathbf{E} = \mathbf{E}^{\text{ext}} + \mathbf{E}^{\text{int}} = \mathbf{0} \text{ (conducteur) (7.14)}$$



7.3.2 Phénomène d'influence (dû à la force de Coulomb)

En présence d'un champ électrique extérieur \mathbf{E}^{ext} supposé uniforme, les charges à la surface d'un conducteur se séparent afin de générer un champ électrique \mathbf{E}^{int} qui compense exactement le champ électrique \mathbf{E}^{ext} de sorte que le champ électrique résultant \mathbf{E} à l'intérieur du conducteur (cavité) soit nul :

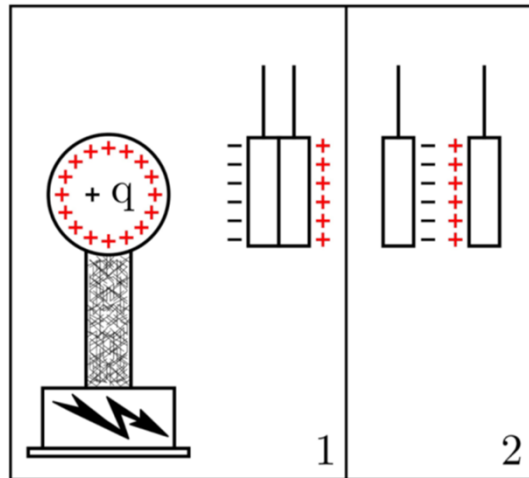
$$\mathbf{E} = \mathbf{E}^{\text{ext}} + \mathbf{E}^{\text{int}} = \mathbf{0} \text{ (conducteur) (7.14)}$$



- Le conducteur est initialement neutre.
- Dû à l'influence du champ électrique extérieur, la surface du conducteur n'est plus une équipotentielle.

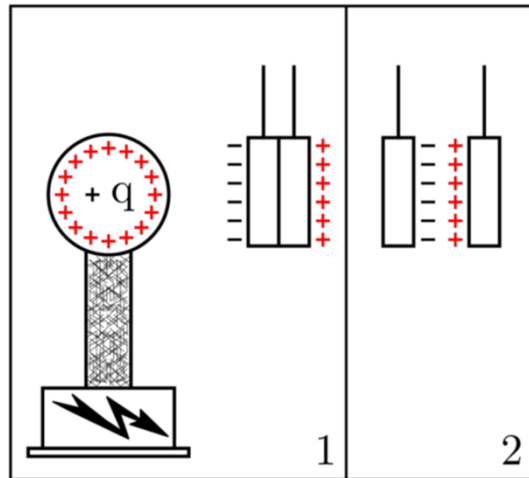
7.3.2 Phénomène d'influence (dû à la force de Coulomb)

Expérience :



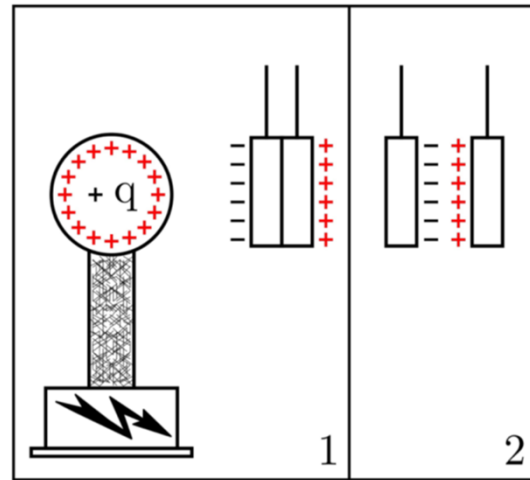
7.3.2 Phénomène d'influence (dû à la force de Coulomb)

Expérience : 1. Séparation de charges par influence



7.3.2 Phénomène d'influence (dû à la force de Coulomb)

Expérience : 1. Séparation de charges par influence



Deux plaques métalliques neutres en contact sont placées au voisinage d'une sphère chargée (positivement par exemple). Les charges négatives mobiles (électrons) contenues dans les plaques sont attirées par les charges positives de la sphère. Il en résulte un manque d'électrons sur la plaque de droite. En séparant les plaques, on vérifie qu'elles possèdent une charge égale de signe opposé.

7.3.2 Phénomène d'influence (dû à la force de Coulomb)

Expérience :



7.3.2 Phénomène d'influence (dû à la force de Coulomb)

Expérience : 2. Cage de Faraday



7.3.2 Phénomène d'influence (dû à la force de Coulomb)


Expérience : 2. Cage de Faraday



Une cage de Faraday est une enceinte conductrice maintenue à un potentiel constant. La personne qui se trouve dans la cage ne peut pas être atteinte par un arc électrique puisque le champ électrique à l'intérieur de la cage doit rester nul.



7.3.2 Phénomène d'influence (dû à la force de Coulomb)

Expérience :




7.3.2 Phénomène d'influence (dû à la force de Coulomb)

Expérience : 3. Arc électrique glissant



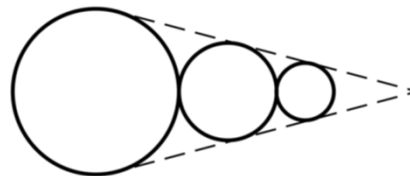
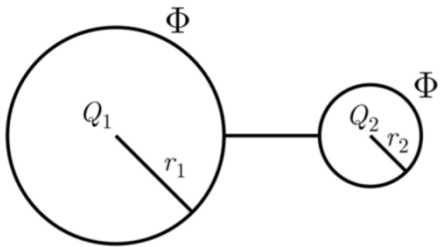
7.3.2 Phénomène d'influence (dû à la force de Coulomb)

Expérience : 3. Arc électrique glissant



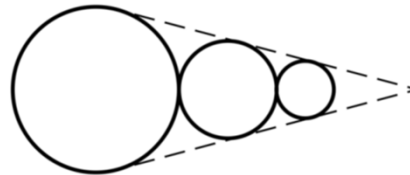
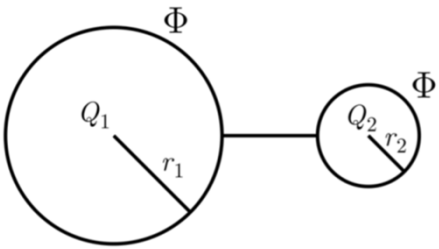
- À l'endroit où les électrodes métalliques sont les plus proches, le champ électrique est suffisamment intense pour ioniser l'air.
- Un arc électrique apparaît au bas des électrodes et se déplace vers le haut des tiges.
- Ce dispositif est utilisé comme protection contre la surtension.

7.3.3 Effet de pointe



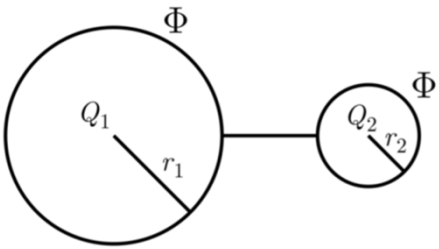
7.3.3 Effet de pointe

- Plus la courbure de la surface du conducteur est grande, c'est-à-dire plus le rayon de courbure r est petit, plus le champ électrique \mathbf{E} est grand.
- On considère deux sphères de rayons r_1 et r_2 en contact :



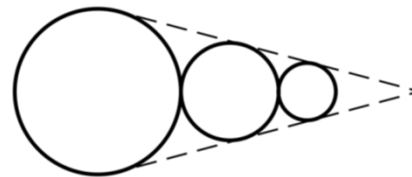
7.3.3 Effet de pointe

- Plus la courbure de la surface du conducteur est grande, c'est-à-dire plus le rayon de courbure r est petit, plus le champ électrique \mathbf{E} est grand.
- On considère deux sphères de rayons r_1 et r_2 en contact :



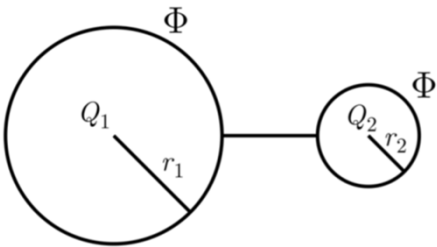
- Potentiel uniforme Φ :

$$\Phi(r) = \frac{1}{4\pi\epsilon_0} \frac{Q_1}{r_1} = \frac{1}{4\pi\epsilon_0} \frac{Q_2}{r_2} \Rightarrow \frac{Q_1}{Q_2} = \frac{r_1}{r_2} > 1 \quad (7.15)$$



7.3.3 Effet de pointe

- Plus la courbure de la surface du conducteur est grande, c'est-à-dire plus le rayon de courbure r est petit, plus le champ électrique \mathbf{E} est grand.
- On considère deux sphères de rayons r_1 et r_2 en contact :



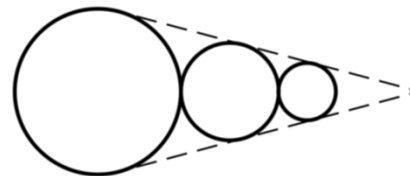
- Potentiel uniforme Φ :

$$\Phi(r) = \frac{1}{4\pi\epsilon_0} \frac{Q_1}{r_1} = \frac{1}{4\pi\epsilon_0} \frac{Q_2}{r_2} \Rightarrow \frac{Q_1}{Q_2} = \frac{r_1}{r_2} > 1 \quad (7.15)$$

- Champ électrique à la surface des deux sphères :

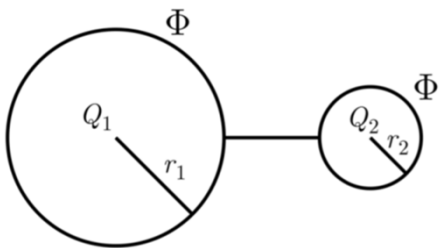
$$\|\mathbf{E}_1\| = \frac{1}{4\pi\epsilon_0} \frac{Q_1}{r_1^2} \quad \text{et} \quad \|\mathbf{E}_2\| = \frac{1}{4\pi\epsilon_0} \frac{Q_2}{r_2^2} \quad (7.16) \quad \|\mathbf{E}_2\| = \frac{1}{4\pi\epsilon_0} \frac{Q_2}{r_2^2} = \frac{1}{4\pi\epsilon_0} \frac{Q_1}{r_1^2} \frac{r_1}{r_2} > \frac{1}{4\pi\epsilon_0} \frac{Q_1}{r_1^2} = \|\mathbf{E}_1\| \Rightarrow \|\mathbf{E}_2\| > \|\mathbf{E}_1\|$$

Si $r_2 < r_1$



7.3.3 Effet de pointe

- Plus la courbure de la surface du conducteur est grande, c'est-à-dire plus le rayon de courbure r est petit, plus le champ électrique \mathbf{E} est grand.
- On considère deux sphères de rayons r_1 et r_2 en contact :



- Potentiel uniforme Φ :

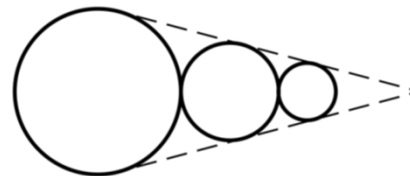
$$\Phi(r) = \frac{1}{4\pi\epsilon_0} \frac{Q_1}{r_1} = \frac{1}{4\pi\epsilon_0} \frac{Q_2}{r_2} \Rightarrow \frac{Q_1}{Q_2} = \frac{r_1}{r_2} > 1 \quad (7.15)$$

- Champ électrique à la surface des deux sphères :

$$\|\mathbf{E}_1\| = \frac{1}{4\pi\epsilon_0} \frac{Q_1}{r_1^2} \quad \text{et} \quad \|\mathbf{E}_2\| = \frac{1}{4\pi\epsilon_0} \frac{Q_2}{r_2^2} \quad (7.16) \quad \|\mathbf{E}_2\| = \frac{1}{4\pi\epsilon_0} \frac{Q_2}{r_2^2} = \frac{1}{4\pi\epsilon_0} \frac{Q_1}{r_1^2} \frac{r_1}{r_2} > \frac{1}{4\pi\epsilon_0} \frac{Q_1}{r_1^2} = \|\mathbf{E}_1\| \Rightarrow \|\mathbf{E}_2\| > \|\mathbf{E}_1\|$$

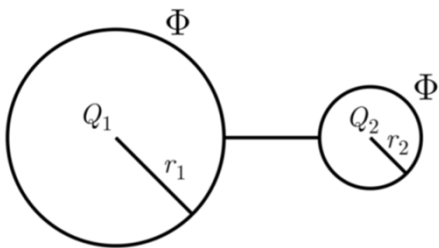
Si $r_2 < r_1$

- On peut modéliser une pointe comme une succession de sphères de rayon r décroissant :



7.3.3 Effet de pointe

- Plus la courbure de la surface du conducteur est grande, c'est-à-dire plus le rayon de courbure r est petit, plus le champ électrique \mathbf{E} est grand.
- On considère deux sphères de rayons r_1 et r_2 en contact :



- Potentiel uniforme Φ :

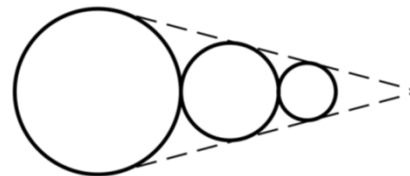
$$\Phi(r) = \frac{1}{4\pi\epsilon_0} \frac{Q_1}{r_1} = \frac{1}{4\pi\epsilon_0} \frac{Q_2}{r_2} \Rightarrow \frac{Q_1}{Q_2} = \frac{r_1}{r_2} > 1 \quad (7.15)$$

- Champ électrique à la surface des deux sphères :

$$\|\mathbf{E}_1\| = \frac{1}{4\pi\epsilon_0} \frac{Q_1}{r_1^2} \quad \text{et} \quad \|\mathbf{E}_2\| = \frac{1}{4\pi\epsilon_0} \frac{Q_2}{r_2^2} \quad (7.16) \quad \|\mathbf{E}_2\| = \frac{1}{4\pi\epsilon_0} \frac{Q_2}{r_2^2} = \frac{1}{4\pi\epsilon_0} \frac{Q_1}{r_1^2} \frac{r_1}{r_2} > \frac{1}{4\pi\epsilon_0} \frac{Q_1}{r_1^2} = \|\mathbf{E}_1\| \Rightarrow \|\mathbf{E}_2\| > \|\mathbf{E}_1\|$$


Si $r_2 < r_1$

- On peut modéliser une pointe comme une succession de sphères de rayon r décroissant :
- Le champ électrique \mathbf{E} est beaucoup plus intense à la pointe!




7.3.3 Effet de pointe

Expérience :




7.3.3 Effet de pointe

Expérience : Décharge par effet de pointe



7.3.3 Effet de pointe

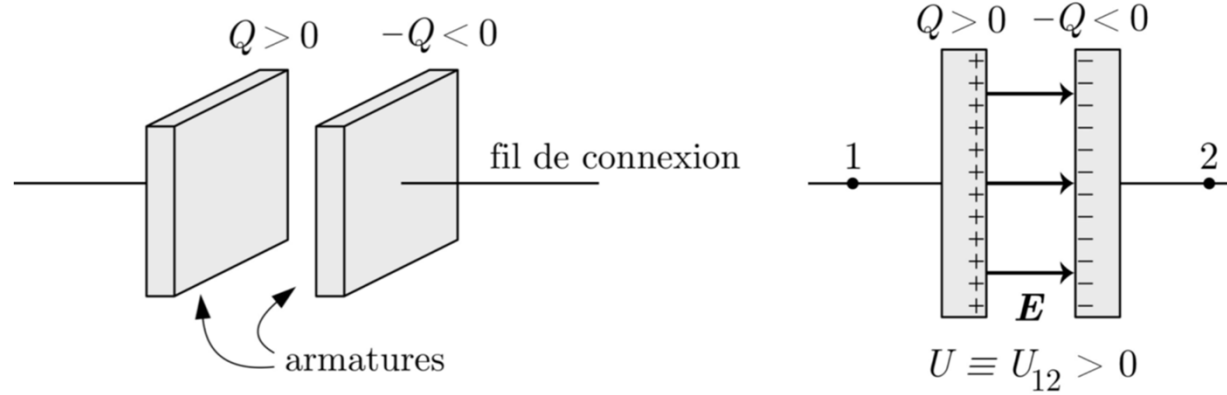
Expérience : Décharge par effet de pointe



- On charge une sphère jusqu'à ce que sa différence de potentiel avec la terre soit de 20 kV. Dès qu'on approche la pointe de la sphère, la sphère se décharge (effet paratonnerre).
- Par effet de pointe, une structure pointue comme la tour Eiffel se fait plus facilement foudroyer.

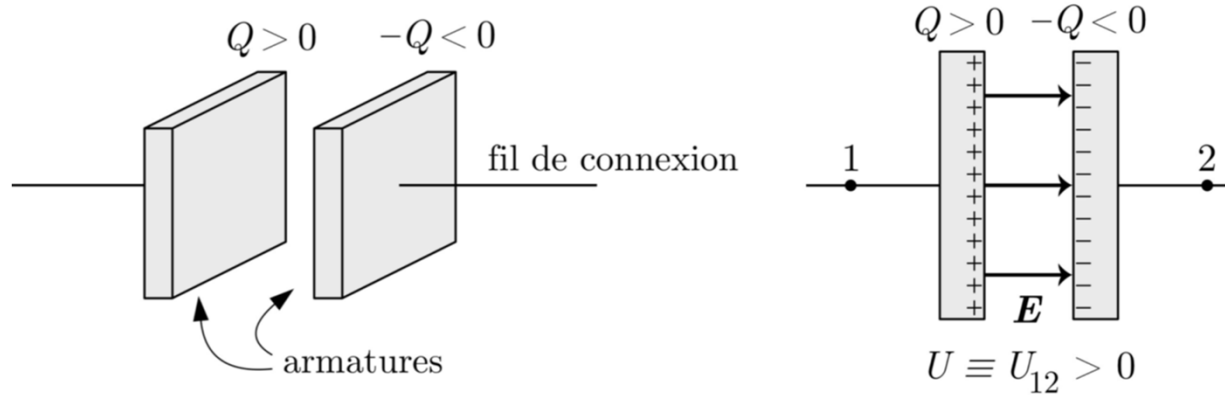
7.4 Condensateurs

7.4 Condensateurs



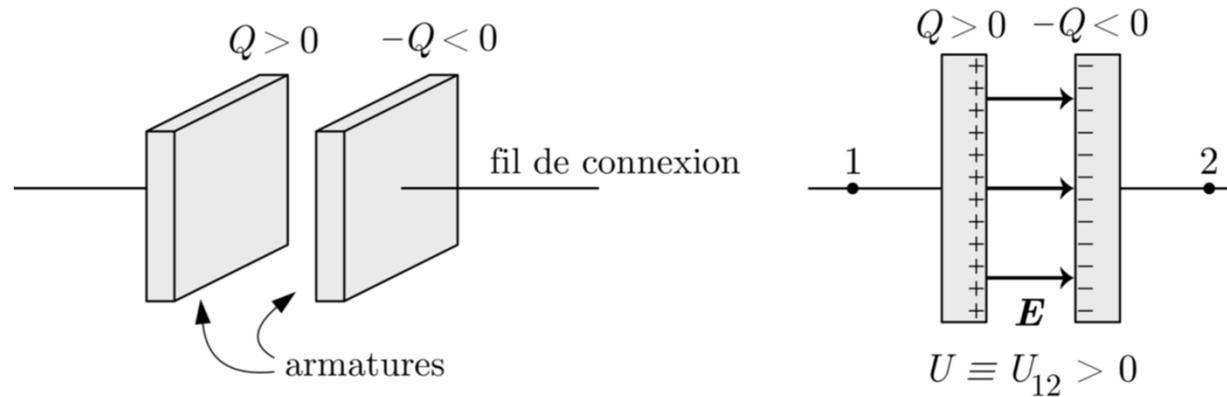
7.4 Condensateurs

- Un condensateur est un ensemble formé de deux conducteurs isolés se faisant face. Si l'une des armatures est chargée avec une charge électrique positive Q , l'autre possède une charge négative $-Q$, égale et opposée.



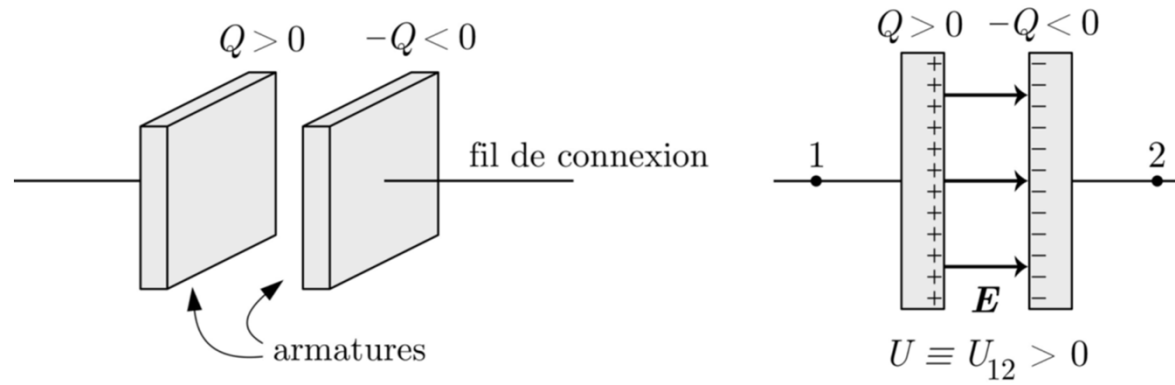
7.4 Condensateurs

- Un condensateur est un ensemble formé de deux conducteurs isolés se faisant face. Si l'une des armatures est chargée avec une charge électrique positive Q , l'autre possède une charge négative $-Q$, égale et opposée.

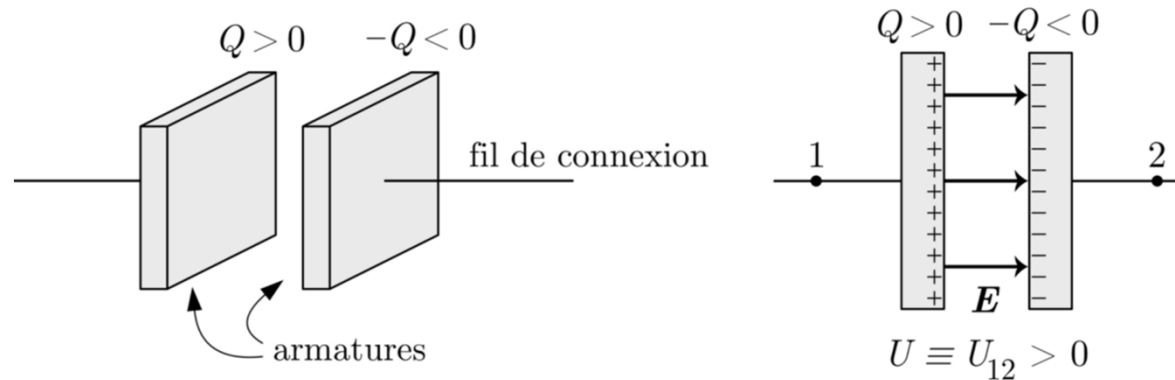


- Conventions :
- 1. La charge Q d'un condensateur est définie positive.
- 2. La tension aux armatures U est définie positive,

7.4 Condensateurs



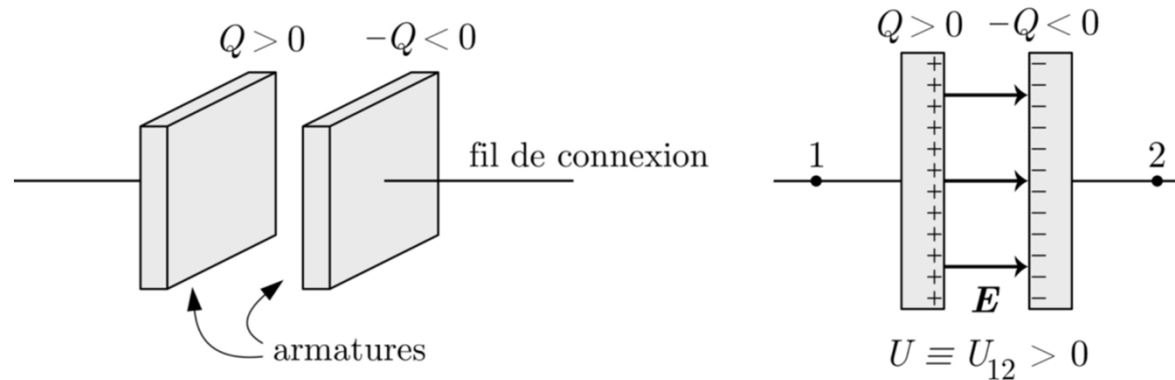
7.4 Condensateurs



- La capacité électrique C d'un condensateur est définie comme son aptitude à stocker des charges électriques sur ses surfaces conductrices pour une tension U donnée :

$$Q = CU \quad (7.25)$$

7.4 Condensateurs

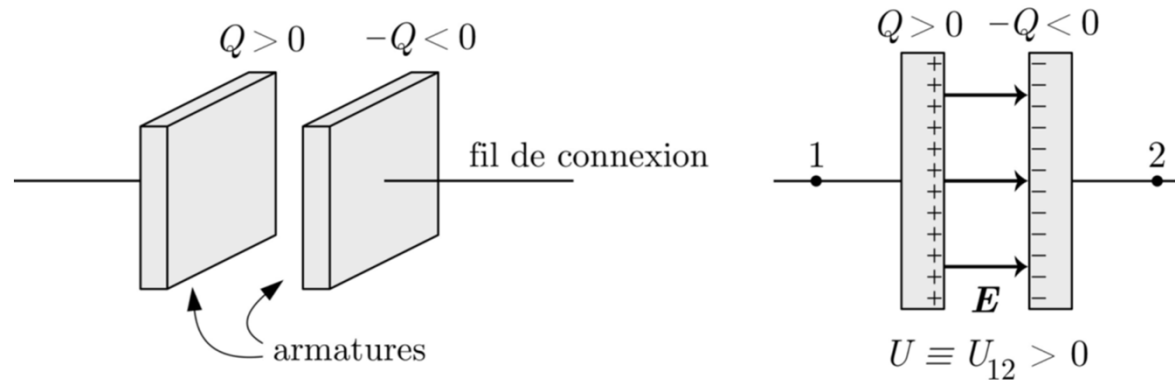


- La capacité électrique C d'un condensateur est définie comme son aptitude à stocker des charges électriques sur ses surfaces conductrices pour une tension U donnée :

$$Q = CU \quad (7.25)$$

- Unité physique (SI) d'une capacité électrique, le Farad : $[F] = [C.V^{-1}] = [A^2.s^4.kg^{-1}.m^{-2}]$

7.4 Condensateurs

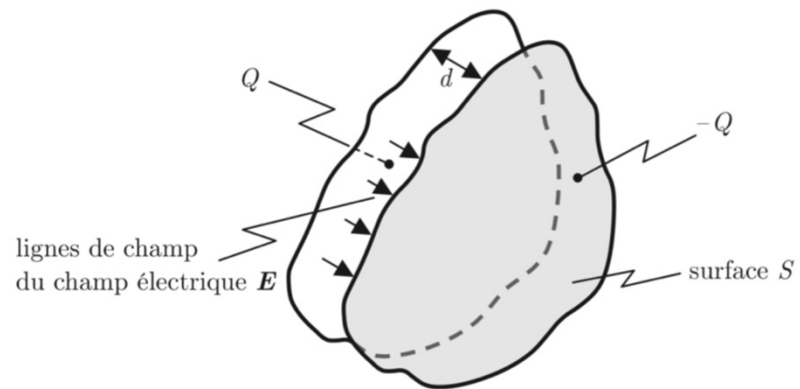


- La capacité électrique C d'un condensateur est définie comme son aptitude à stocker des charges électriques sur ses surfaces conductrices pour une tension U donnée :

$$Q = CU \quad (7.25)$$

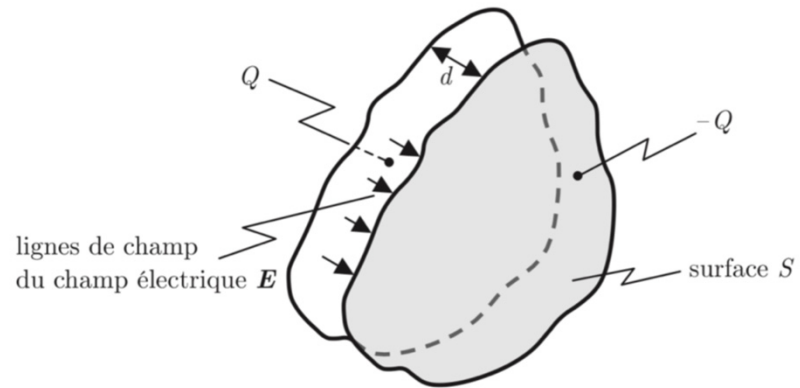
- Unité physique (SI) d'une capacité électrique, le Farad : $[F] = [C.V^{-1}] = [A^2.s^4.kg^{-1}.m^{-2}]$
- Exemples : Condensateurs plan, sphérique et cylindrique

7.4 Condensateurs



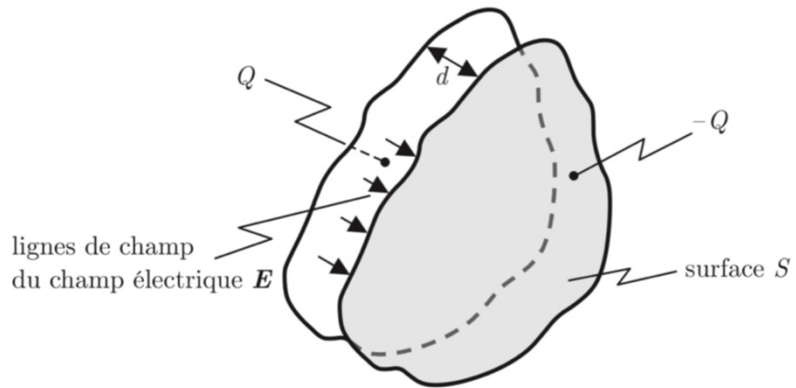
7.4 Condensateurs

1. Condensateur plan



7.4 Condensateurs

1. Condensateur plan

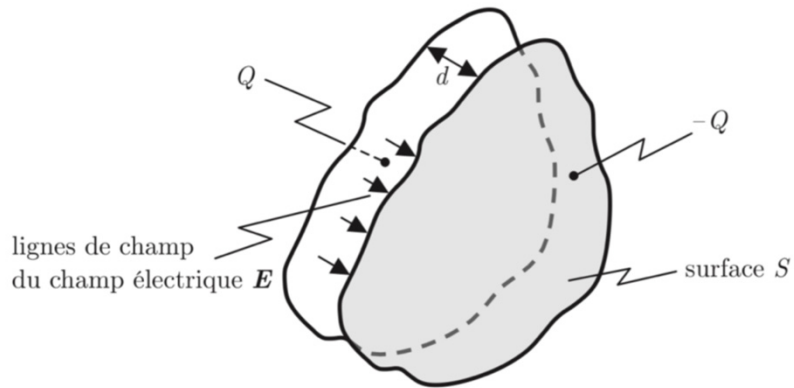


- Champ électrique uniforme \mathbf{E} à la surface d'un conducteur :

$$E = \frac{\sigma}{\epsilon_0} = \frac{Q}{S\epsilon_0} \Rightarrow \boxed{Q = \epsilon_0 S E \quad (7.26)}$$

7.4 Condensateurs

1. Condensateur plan



- Champ électrique uniforme E à la surface d'un conducteur :

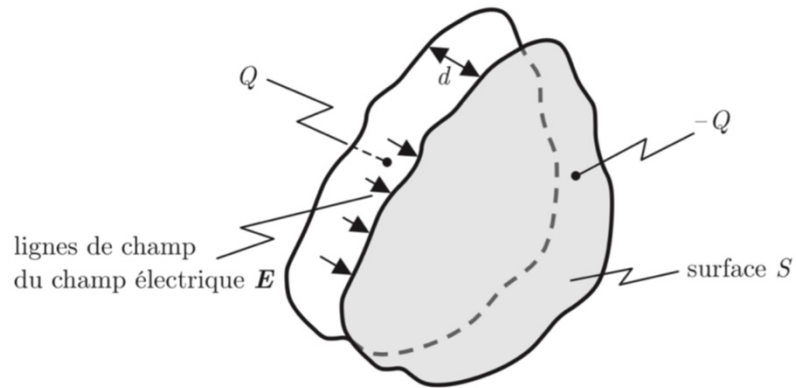
$$E = \frac{\sigma}{\epsilon_0} = \frac{Q}{S\epsilon_0} \Rightarrow \boxed{Q = \epsilon_0 S E \quad (7.26)}$$

- Tension U entre les armatures :

$$U = \int_0^d E(r) dr = E \int_0^d dr = Ed \Rightarrow \boxed{E = \frac{U}{d} \quad (7.27)}$$

7.4 Condensateurs

1. Condensateur plan



- Champ électrique uniforme E à la surface d'un conducteur :

$$E = \frac{\sigma}{\epsilon_0} = \frac{Q}{S\epsilon_0} \Rightarrow \boxed{Q = \epsilon_0 S E \quad (7.26)}$$

- Tension U entre les armatures :

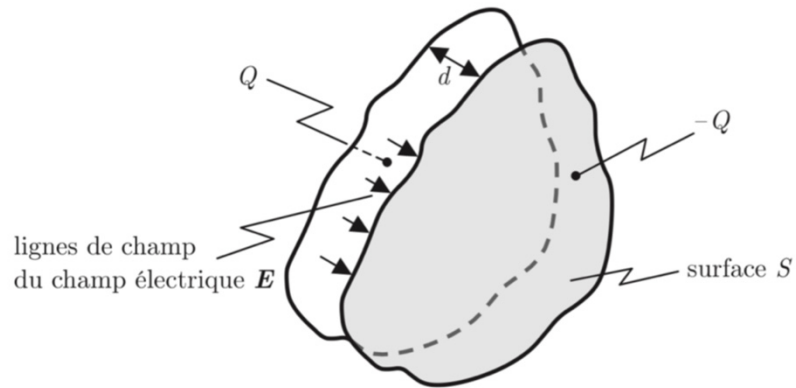
$$U = \int_0^d E(r) dr = E \int_0^d dr = Ed \Rightarrow \boxed{E = \frac{U}{d} \quad (7.27)}$$

- Charge électrique :

$$\boxed{Q = \frac{\epsilon_0 S}{d} U \quad (7.28)} \text{ et } \boxed{Q = CU \quad (7.25)}$$

7.4 Condensateurs

1. Condensateur plan



- Champ électrique uniforme \mathbf{E} à la surface d'un conducteur :

$$E = \frac{\sigma}{\epsilon_0} = \frac{Q}{S\epsilon_0} \Rightarrow \boxed{Q = \epsilon_0 SE \quad (7.26)}$$

- Tension U entre les armatures :

$$U = \int_0^d E(r) dr = E \int_0^d dr = Ed \Rightarrow \boxed{E = \frac{U}{d} \quad (7.27)}$$

- Charge électrique :


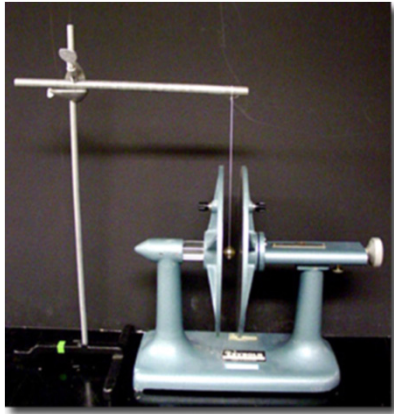
$$\boxed{Q = \frac{\epsilon_0 S}{d} U \quad (7.28)} \quad \text{et} \quad \boxed{Q = CU \quad (7.25)}$$

- Capacité électrique :

$$\boxed{C = \frac{\epsilon_0 S}{d} \quad (7.29)}$$


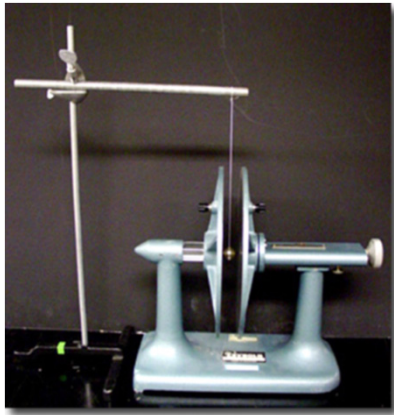
7.4 Condensateurs

Expérience :




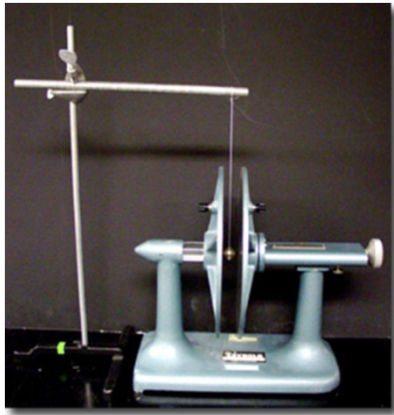
7.4 Condensateurs

Expérience : Pendule électrostatique



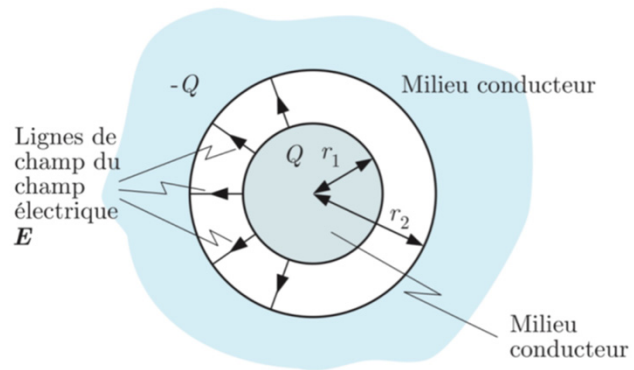
7.4 Condensateurs

Expérience : Pendule électrostatique



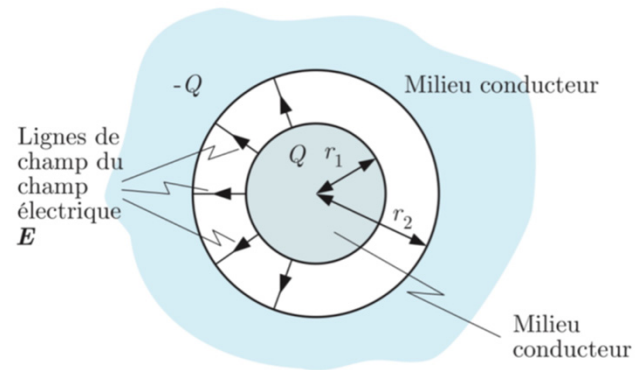
- On commence par mettre la boule métallique en contact avec une des plaques du condensateur. La boule va se charger électriquement avec la polarité de la plaque (+/-). Comme elle a des charges de même signe que la plaque, elle est repoussée violemment et attirée par l'autre plaque qui a des charges de signe opposé. Une fois en contact, ce phénomène se répète, ce qui donne lieu à un « effet ping-pong ».

7.4 Condensateurs



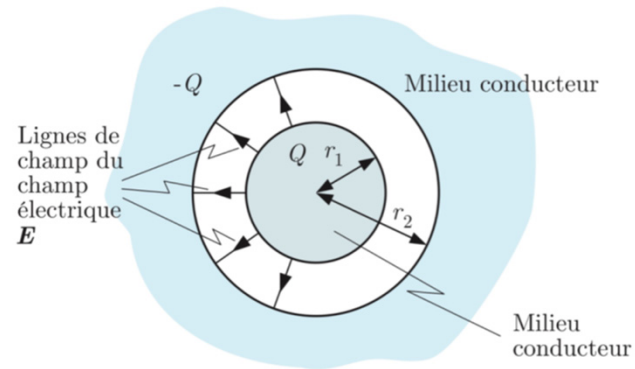
7.4 Condensateurs

2. Condensateur sphérique



7.4 Condensateurs

2. Condensateur sphérique

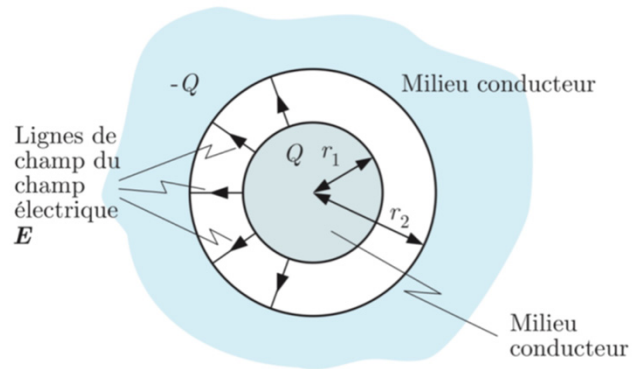


- Champ électrique dans la cavité :

$$E(r) = \frac{1}{4\pi\epsilon_0} \frac{Q}{r^2} \quad (7.3)$$

7.4 Condensateurs

2. Condensateur sphérique



- Champ électrique dans la cavité :

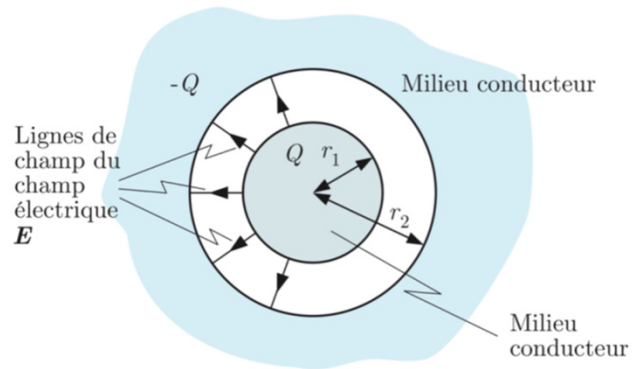
$$E(r) = \frac{1}{4\pi\epsilon_0} \frac{Q}{r^2} \quad (7.3)$$

- Tension U entre les conducteurs :

$$U = \int_{r_1}^{r_2} E(r) dr = \frac{Q}{4\pi\epsilon_0} \int_{r_1}^{r_2} \frac{dr}{r^2} = \frac{Q}{4\pi\epsilon_0} \left(\frac{1}{r_1} - \frac{1}{r_2} \right) \quad (7.30)$$

7.4 Condensateurs

2. Condensateur sphérique



- Champ électrique dans la cavité :

$$E(r) = \frac{1}{4\pi\epsilon_0} \frac{Q}{r^2} \quad (7.3)$$

- Tension U entre les conducteurs :

$$U = \int_{r_1}^{r_2} E(r) dr = \frac{Q}{4\pi\epsilon_0} \int_{r_1}^{r_2} \frac{dr}{r^2} = \frac{Q}{4\pi\epsilon_0} \left(\frac{1}{r_1} - \frac{1}{r_2} \right) \quad (7.30)$$

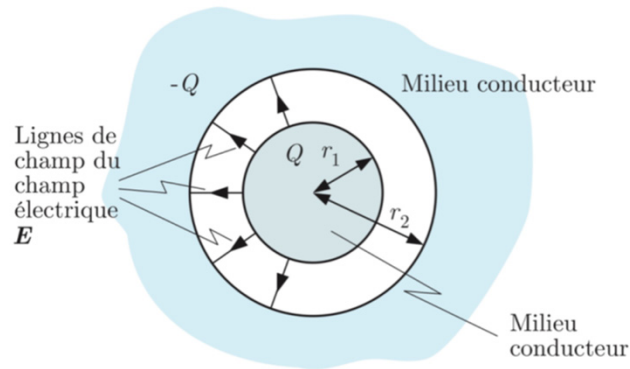
- Charge électrique :

$$Q = 4\pi\epsilon_0 \left(\frac{1}{r_1} - \frac{1}{r_2} \right)^{-1} U = 4\pi\epsilon_0 \frac{r_1 r_2}{r_2 - r_1} U \quad (7.31)$$

et $Q = CU \quad (7.25)$

7.4 Condensateurs

2. Condensateur sphérique



- Champ électrique dans la cavité :

$$E(r) = \frac{1}{4\pi\epsilon_0} \frac{Q}{r^2} \quad (7.3)$$

- Tension U entre les conducteurs :

$$U = \int_{r_1}^{r_2} E(r) dr = \frac{Q}{4\pi\epsilon_0} \int_{r_1}^{r_2} \frac{dr}{r^2} = \frac{Q}{4\pi\epsilon_0} \left(\frac{1}{r_1} - \frac{1}{r_2} \right) \quad (7.30)$$

- Charge électrique :

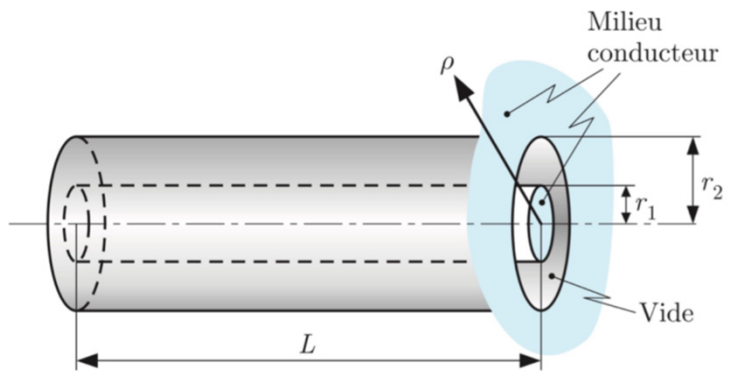
$$Q = 4\pi\epsilon_0 \left(\frac{1}{r_1} - \frac{1}{r_2} \right)^{-1} U = 4\pi\epsilon_0 \frac{r_1 r_2}{r_2 - r_1} U \quad (7.31)$$

et $Q = CU \quad (7.25)$

- Capacité électrique :

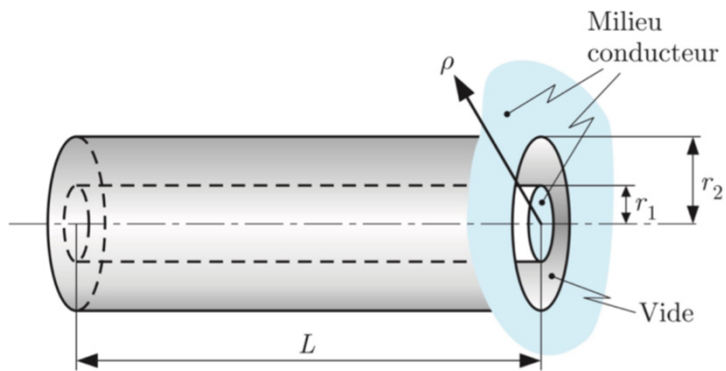
$$C = 4\pi\epsilon_0 \frac{r_1 r_2}{r_2 - r_1} \quad (7.32)$$

7.4 Condensateurs



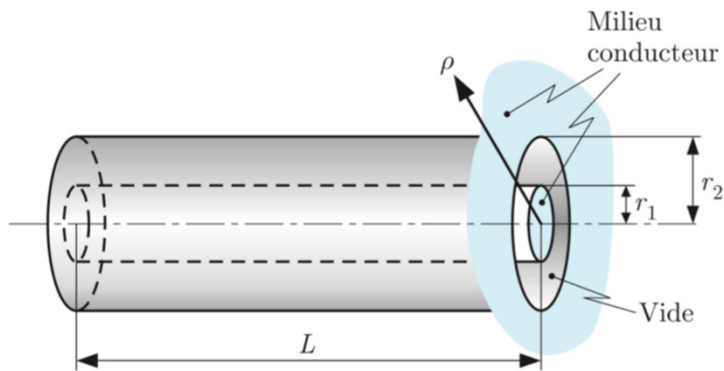
7.4 Condensateurs

3. Condensateur cylindrique



7.4 Condensateurs

3. Condensateur cylindrique



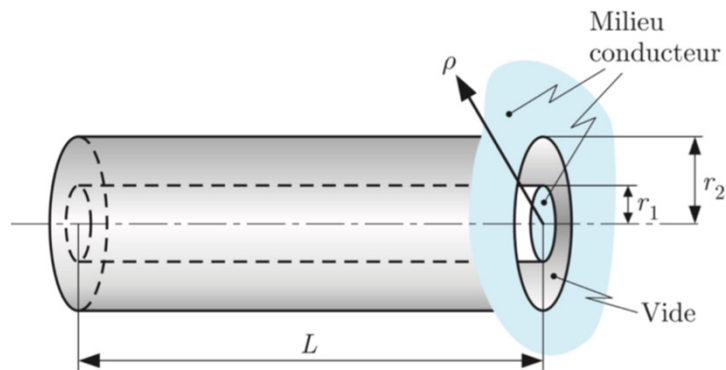
- Loi de Gauss : (flux en r)

$$\oint E(r) d\Sigma(r) = E \oint d\Sigma(r) = E 2\pi r L = \frac{Q}{\epsilon_0}$$

$$\Rightarrow E = \frac{Q}{2\pi r L \epsilon_0} \quad (7.33)$$

7.4 Condensateurs

3. Condensateur cylindrique



- Loi de Gauss : (flux en r)

$$\oint E(r) d\Sigma(r) = E \oint d\Sigma(r) = E 2\pi r L = \frac{Q}{\epsilon_0}$$

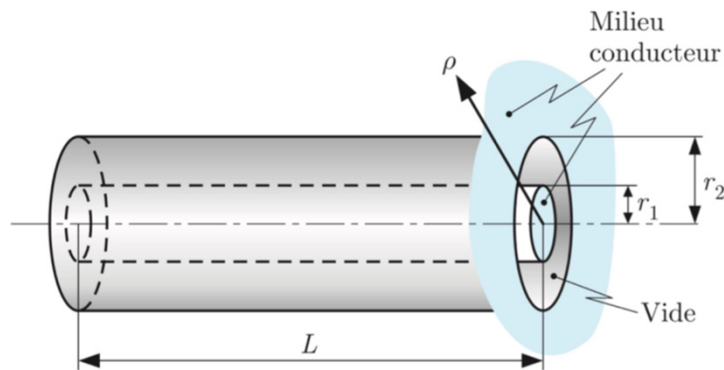
$$\Rightarrow E = \frac{Q}{2\pi r L \epsilon_0} \quad (7.33)$$

- Tension U entre les conducteurs :

$$U = \int_{r_1}^{r_2} E(r) dr = \frac{Q}{2\pi L \epsilon_0} \int_{r_1}^{r_2} \frac{dr}{r} = \frac{Q}{2\pi L \epsilon_0} \ln\left(\frac{r_2}{r_1}\right) \quad (7.34)$$

7.4 Condensateurs

3. Condensateur cylindrique



- Loi de Gauss : (flux en r)

$$\oint E(r) d\Sigma(r) = E \oint d\Sigma(r) = E 2\pi r L = \frac{Q}{\epsilon_0}$$

$$\Rightarrow E = \frac{Q}{2\pi r L \epsilon_0} \quad (7.33)$$

- Tension U entre les conducteurs :

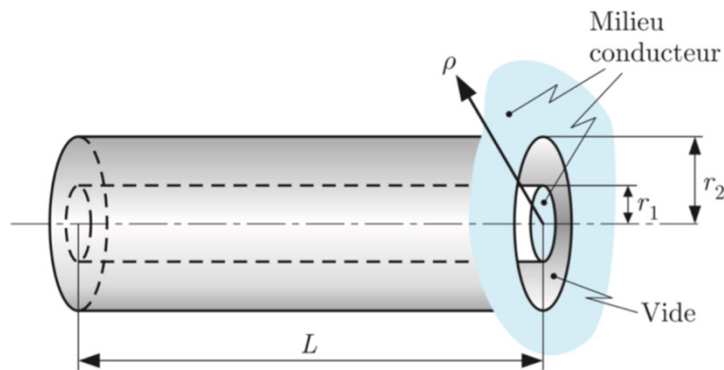
$$U = \int_{r_1}^{r_2} E(r) dr = \frac{Q}{2\pi L \epsilon_0} \int_{r_1}^{r_2} \frac{dr}{r} = \frac{Q}{2\pi L \epsilon_0} \ln\left(\frac{r_2}{r_1}\right) \quad (7.34)$$

- Charge électrique :

$$Q = \frac{2\pi L \epsilon_0}{\ln\left(\frac{r_2}{r_1}\right)} U \quad (7.35) \quad \text{et} \quad Q = C U \quad (7.25)$$

7.4 Condensateurs

3. Condensateur cylindrique



- Loi de Gauss : (flux en r)

$$\oint E(r) d\Sigma(r) = E \oint d\Sigma(r) = E 2\pi r L = \frac{Q}{\epsilon_0}$$

$$\Rightarrow E = \frac{Q}{2\pi r L \epsilon_0} \quad (7.33)$$

- Tension U entre les conducteurs :

$$U = \int_{r_1}^{r_2} E(r) dr = \frac{Q}{2\pi L \epsilon_0} \int_{r_1}^{r_2} \frac{dr}{r} = \frac{Q}{2\pi L \epsilon_0} \ln\left(\frac{r_2}{r_1}\right) \quad (7.34)$$

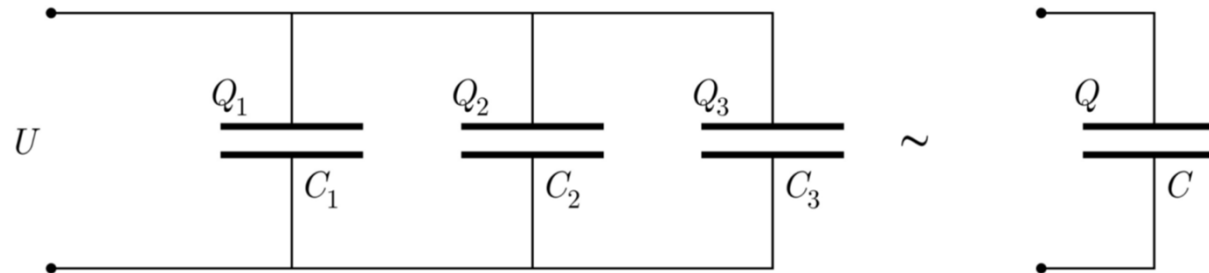
- Charge électrique :

$$Q = \frac{2\pi L \epsilon_0}{\ln\left(\frac{r_2}{r_1}\right)} U \quad (7.35) \quad \text{et} \quad Q = C U \quad (7.25)$$

- Capacité électrique :

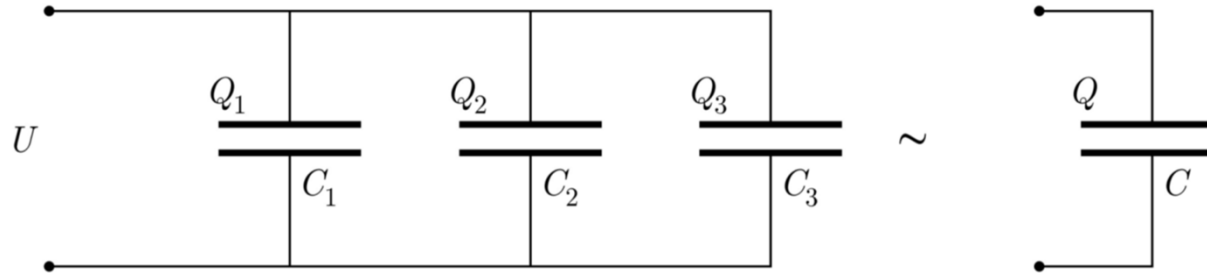
$$C = \frac{2\pi L \epsilon_0}{\ln\left(\frac{r_2}{r_1}\right)} \quad (7.36)$$

7.4.1 Groupement de condensateurs



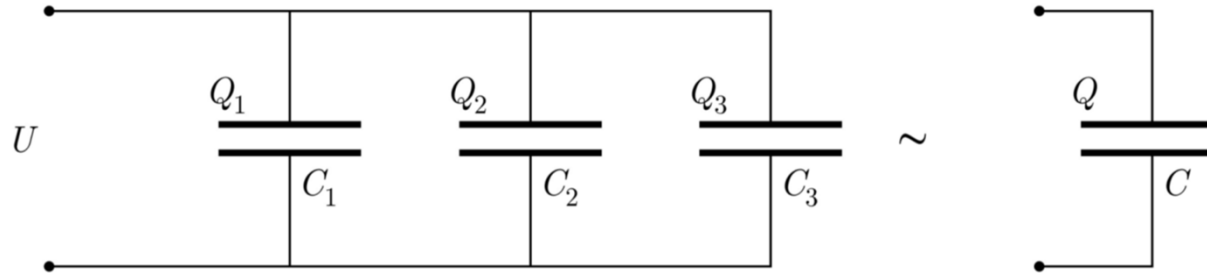
7.4.1 Groupement de condensateurs

1. Branchement en parallèle de trois condensateurs :



7.4.1 Groupement de condensateurs

1. Branchement en parallèle de trois condensateurs :



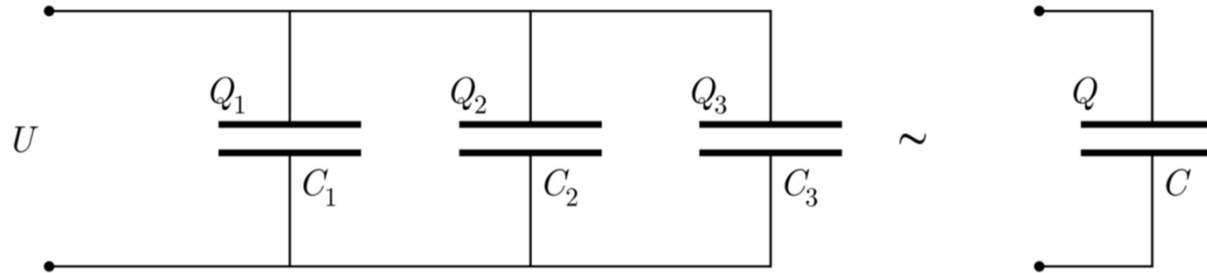
- Charges :

$$Q = CU; Q_1 = C_1 U; Q_2 = C_2 U; Q_3 = C_3 U$$

$$Q = Q_1 + Q_2 + Q_3 = (C_1 + C_2 + C_3) U = CU$$

7.4.1 Groupement de condensateurs

1. Branchement en parallèle de trois condensateurs :



- Charges :

$$Q = CU; Q_1 = C_1 U; Q_2 = C_2 U; Q_3 = C_3 U$$

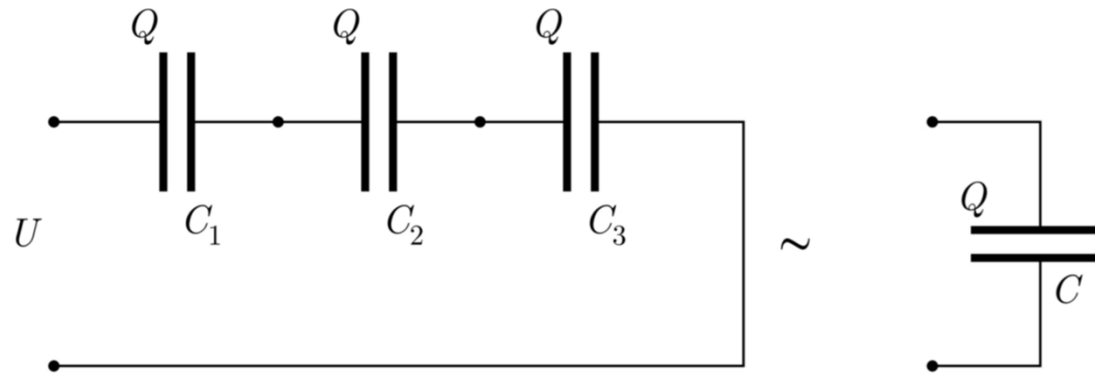
$$Q = Q_1 + Q_2 + Q_3 = (C_1 + C_2 + C_3)U = CU$$

- Capacité électrique :

$$C = C_1 + C_2 + C_3 \quad (7.37)$$

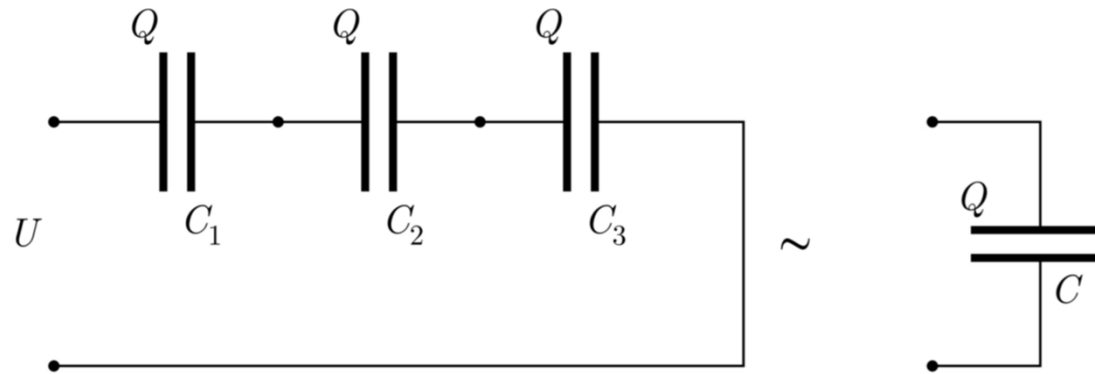
En parallèle, les capacités s'additionnent.

7.4.1 Groupement de condensateurs



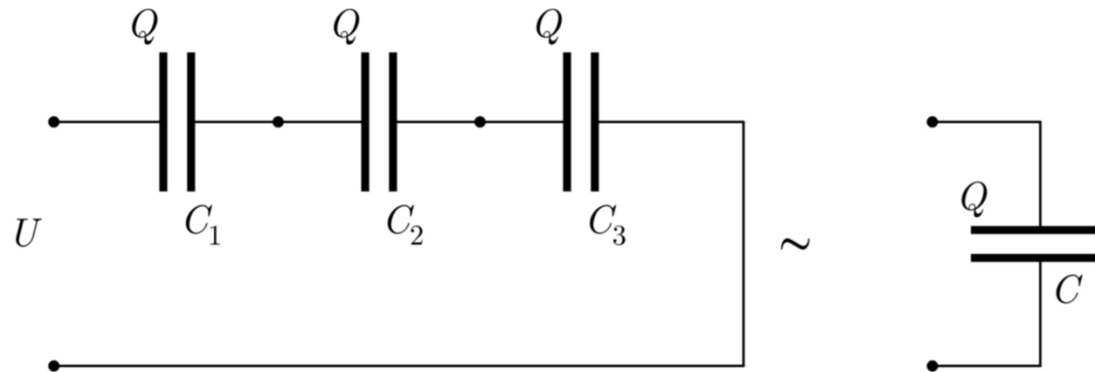
7.4.1 Groupement de condensateurs

2. Branchement en série de trois condensateurs :



7.4.1 Groupement de condensateurs

2. Branchement en série de trois condensateurs :

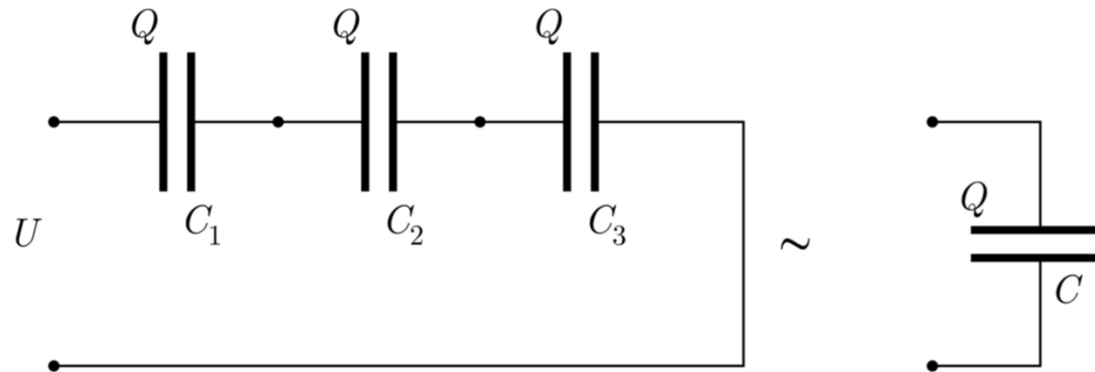


- Charges :

$$Q = CU; Q = C_1 U_1; Q = C_2 U_2; Q = C_3 U_3$$

7.4.1 Groupement de condensateurs

2. Branchement en série de trois condensateurs :



- Charges :

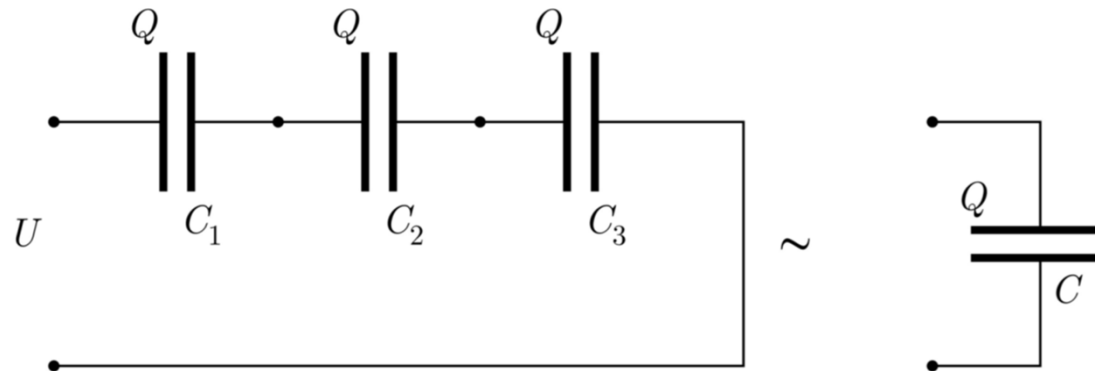
$$Q = CU; Q = C_1 U_1; Q = C_2 U_2; Q = C_3 U_3$$

- Tension :

$$U = U_1 + U_2 + U_3 = Q \left(\frac{1}{C_1} + \frac{1}{C_2} + \frac{1}{C_3} \right) = \frac{Q}{C}$$

7.4.1 Groupement de condensateurs

2. Branchement en série de trois condensateurs :



- Charges :

$$Q = CU; Q = C_1 U_1; Q = C_2 U_2; Q = C_3 U_3$$

- Tension :

$$U = U_1 + U_2 + U_3 = Q \left(\frac{1}{C_1} + \frac{1}{C_2} + \frac{1}{C_3} \right) = \frac{Q}{C}$$

- Capacité électrique :

$$\frac{1}{C} = \frac{1}{C_1} + \frac{1}{C_2} + \frac{1}{C_3} \quad (7.38)$$

En série, les inverses des capacités s'additionnent.

7.4.2 Énergie stockée dans un condensateur

7.4.2 Énergie stockée dans un condensateur

L'énergie E stockée dans un condensateur de capacité C correspond au travail à fournir pour transférer une charge électrique Q positive de la plaque 2, initialement neutre, vers la plaque 1, initialement neutre, en s'opposant à la force de Coulomb exercée entre les charges.

7.4.2 Énergie stockée dans un condensateur

L'énergie E stockée dans un condensateur de capacité C correspond au travail à fournir pour transférer une charge électrique Q positive de la plaque 2, initialement neutre, vers la plaque 1, initialement neutre, en s'opposant à la force de Coulomb exercée entre les charges.

- Le travail infinitésimal de la force de Coulomb \mathbf{F} sur une charge infinitésimale dQ s'écrit (tension $U \equiv U_{12} = -U_{21}$) :

$$\delta W_{2 \rightarrow 1}(\mathbf{F}) = \int_{r_2}^{r_1} \mathbf{F}(\mathbf{r}) \cdot d\mathbf{r} = dQ \int_{r_2}^{r_1} \mathbf{E}(\mathbf{r}) \cdot d\mathbf{r} = -U dQ$$

7.4.2 Énergie stockée dans un condensateur

L'énergie E stockée dans un condensateur de capacité C correspond au travail à fournir pour transférer une charge électrique Q positive de la plaque 2, initialement neutre, vers la plaque 1, initialement neutre, en s'opposant à la force de Coulomb exercée entre les charges.

- Le travail infinitésimal de la force de Coulomb \mathbf{F} sur une charge infinitésimale dQ s'écrit (tension $U \equiv U_{12} = -U_{21}$) :


$$\delta W_{2 \rightarrow 1}(\mathbf{F}) = \int_{r_2}^{r_1} \mathbf{F}(\mathbf{r}) \cdot d\mathbf{r} = dQ \int_{r_2}^{r_1} \mathbf{E}(\mathbf{r}) \cdot d\mathbf{r} = -U dQ$$

- Énergie électrique stockée dans le condensateur :

$$E = -W_{2 \rightarrow 1}(\mathbf{F}) = \int_0^Q U(Q') dQ' = \frac{1}{C} \int_0^Q Q' dQ' = \frac{1}{2} \frac{Q^2}{C} = \frac{1}{2} C U^2 \quad (7.39)$$


7.4.2 Énergie stockée dans un condensateur

Expérience :




7.4.2 Énergie stockée dans un condensateur

Expérience : Sublimation d'un fil de cuivre



7.4.2 Énergie stockée dans un condensateur


Expérience : Sublimation d'un fil de cuivre



30'000
images.s⁻¹

7.4.2 Énergie stockée dans un condensateur

Expérience : Sublimation d'un fil de cuivre



30'000
images.s⁻¹

- En déchargeant violemment deux condensateurs à travers un fil de cuivre, l'énergie électrique stockée dans les condensateurs se transforme en énergie thermique.
- L'échauffement important et rapide du fil de cuivre provoque sa sublimation (passage de l'état solide à l'état gazeux).