



Ens: D. Strütt  
Analyse I - (n/a)  
15 janvier 2024  
3h30

n/a

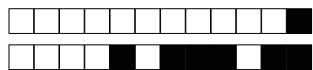
n/a

SCIPER : 999999

Attendez le début de l'épreuve avant de tourner la page. Ce document est imprimé recto-verso, il contient 16 pages, les dernières pouvant être vides. Ne pas dégrafer.

- Posez votre carte d'étudiant sur la table.
- **Aucun** document n'est autorisé.
- L'utilisation d'une **calculatrice** et de tout outil électronique est interdite pendant l'épreuve.
- Pour les questions à **choix multiple**, on comptera :
  - +3 points si la réponse est correcte,
  - 0 point si il n'y a aucune ou plus d'une réponse inscrite,
  - 1 point si la réponse est incorrecte.
- Pour les questions de type **vrai-faux**, on comptera :
  - +1 point si la réponse est correcte,
  - 0 point si il n'y a aucune ou plus d'une réponse inscrite,
  - 1 point si la réponse est incorrecte.
- Utilisez un **stylo** à encre **noire ou bleu foncé** et effacez proprement avec du **correcteur blanc** si nécessaire.
- Si une question est erronée, l'enseignant se réserve le droit de l'annuler.

Respectez les consignes suivantes   Read these guidelines   Beachten Sie bitte die unten stehenden Richtlinien		
choisir une réponse   select an answer Antwort auswählen	ne PAS choisir une réponse   NOT select an answer NICHT Antwort auswählen	Corriger une réponse   Correct an answer Antwort korrigieren
ce qu'il ne faut <b>PAS</b> faire   what should <b>NOT</b> be done   was man <b>NICHT</b> tun sollte		



### Première partie, questions à choix multiple

Pour chaque question marquer la case correspondante à la réponse correcte sans faire de ratures. Il n'y a qu'une seule réponse correcte par question.

**Question 1 :** Soit  $(a_n)_{n \geq 1}$  la suite définie par

$$a_n = (-1)^{n+1} + \left(-\frac{1}{2}\right)^n + \frac{3}{n}.$$

Alors :

- |  |   |
|--|---|
| <input type="checkbox"/> $\liminf_{n \rightarrow \infty} a_n = -1$ et $\limsup_{n \rightarrow \infty} a_n = 1$                     | <input type="checkbox"/> $\liminf_{n \rightarrow \infty} a_n = \frac{3}{4}$ et $\limsup_{n \rightarrow \infty} a_n = \frac{7}{2}$ |
| <input type="checkbox"/> $\liminf_{n \rightarrow \infty} a_n = -\frac{1}{4}$ et $\limsup_{n \rightarrow \infty} a_n = \frac{3}{2}$ | <input type="checkbox"/> $\liminf_{n \rightarrow \infty} a_n = -1$ et $\limsup_{n \rightarrow \infty} a_n = \frac{3}{2}$          |

**Question 2 :** Soit  $(a_n)_{n \geq 1}$  la suite définie par  $a_n = (-1)^n + \frac{1}{n}$ , et soit  $A = \{a_1, a_2, a_3, \dots\}$ . Alors :

- |  |  |
|--|--|
| <input type="checkbox"/> $\inf A = 0$ et $\sup A = \frac{3}{2}$  | <input type="checkbox"/> $\inf A = -1$ et $\sup A = 1$ |
| <input type="checkbox"/> $\inf A = -1$ et $\sup A = \frac{3}{2}$ | <input type="checkbox"/> $\inf A = 0$ et $\sup A = 1$  |

**Question 3 :** Soit  $f: \mathbb{R} \rightarrow \mathbb{R}$  la fonction définie par

$$f(x) = \begin{cases} \frac{e^x - 1}{x} & \text{si } x \neq 0, \\ 1 & \text{si } x = 0. \end{cases}$$

Alors :

- |   |  |
|---|--|
| <input type="checkbox"/> $f'(0) = 1$                  | <input type="checkbox"/> $f'(0) = \frac{1}{2}$ |
| <input type="checkbox"/> $f$ n'est pas dérivable en 0 | <input type="checkbox"/> $f'(0) = e$           |

**Question 4 :** Soit  $f: \mathbb{R} \rightarrow \mathbb{R}$  la fonction définie par  $f(x) = 2^x + x^2$ . Alors :

- |   |   |
|---|---|
| <input type="checkbox"/> il existe $c \in ]2, 3[$ tel que $f'(c) = 9$ | <input type="checkbox"/> il existe $c \in ]0, 1[$ tel que $f'(c) = 9$ |
| <input type="checkbox"/> il existe $c \in ]3, 4[$ tel que $f'(c) = 9$ | <input type="checkbox"/> il existe $c \in ]1, 2[$ tel que $f'(c) = 9$ |

**Question 5 :** L'intégrale  $\int_0^\pi e^x \cos(2x) dx$  vaut

- |   |   |                                      |                            |
|---|---|--------------------------------------|----------------------------|
| <input type="checkbox"/> $\frac{1}{5}(e^\pi - 1)$ | <input type="checkbox"/> $\frac{2}{5}(e^\pi - 1)$ | <input type="checkbox"/> $e^\pi - 1$ | <input type="checkbox"/> 0 |
|---|---|--------------------------------------|----------------------------|

**Question 6 :** Soit  $I$  un intervalle non-vide de  $\mathbb{R}$ ,  $f: I \rightarrow \mathbb{R}$  une fonction, et  $\text{Im}(f)$  l'ensemble image de  $f$ . Parmi les affirmations ci-dessous, laquelle est vraie pour tous les choix possibles de  $I$  et de  $f$  ?

- |  |
|--|
| <input type="checkbox"/> Si $I$ est fermé et borné et si $\text{Im}(f)$ est ouvert, alors $f$ n'est pas continue sur $I$ .     |
| <input type="checkbox"/> Si $I$ est borné et si $\text{Im}(f)$ est fermé et si $f$ est continue sur $I$ , alors $I$ est fermé. |
| <input type="checkbox"/> Si $I$ est fermé et borné et si $\text{Im}(f)$ est fermé, alors $f$ est continue sur $I$ .            |
| <input type="checkbox"/> Si $I$ est borné et si $\text{Im}(f)$ est borné, alors $f$ est continue sur $I$ .                     |



**Question 7 :** Soit la série avec paramètre  $x \in ]0, 1[ \cup ]1, +\infty[$  définie par

$$\sum_{n=1}^{\infty} \frac{1}{(\log(x))^n}.$$

Alors la série converge si et seulement si

$x \in ]0, \frac{1}{e}[$

$x \in ]0, \frac{1}{e}[ \cup ]e, +\infty[$

$x \in ]e, +\infty[$

$x \in ]\frac{1}{e}, 1[ \cup ]1, e[$

**Question 8 :** L'intégrale  $\int_0^2 \frac{1}{x^2 + 3x + 2} dx$  vaut

$\log(6)$

$\log\left(\frac{3}{8}\right)$

$\log\left(\frac{4}{3}\right)$

$\log\left(\frac{3}{2}\right)$

**Question 9 :** Une des solutions de l'équation  $z^5 = (1 + \sqrt{3}i)^2$  est

$z = \sqrt[5]{4} \left( \cos\left(\frac{2\pi}{15}\right) + i \sin\left(\frac{2\pi}{15}\right) \right)$

$z = \sqrt[5]{4} \left( \cos\left(\frac{16\pi}{15}\right) + i \sin\left(\frac{16\pi}{15}\right) \right)$

$z = \sqrt[5]{2} \left( \cos\left(\frac{16\pi}{15}\right) + i \sin\left(\frac{16\pi}{15}\right) \right)$

$z = \sqrt[5]{2} \left( \cos\left(\frac{2\pi}{15}\right) + i \sin\left(\frac{2\pi}{15}\right) \right)$

**Question 10 :** Soit  $f: [0, \pi] \rightarrow \mathbb{R}$  la fonction définie par

$$f(x) = (x + 1) \sin(x) + \cos(x) + e^{\sin(x)}.$$

Alors, l'ensemble image de  $f$  est

$[0, 2 + \pi + e]$

$[0, 1 + \frac{\pi}{2} + e]$

$[0, 2]$

$[\pi - 2, 2]$

**Question 11 :** L'intervalle de convergence de la série entière

$$\sum_{n=0}^{\infty} \frac{4^n}{n+1} (x-1)^n$$

est

$] \frac{3}{4}, \frac{5}{4} [$

$] \frac{1}{2}, \frac{3}{2} [$

$] \frac{3}{4}, \frac{5}{4} [$

$] \frac{1}{2}, \frac{3}{2} [$

**Question 12 :** Soit  $(x_n)_{n \geq 1}$  la suite définie par

$$x_n = \left( \cos\left(\sqrt{\frac{2}{n}}\right) \right)^n.$$

Alors la limite  $\lim_{n \rightarrow \infty} x_n$  vaut

$1$

$\frac{1}{e}$

$e$

$0$



**Question 13 :** Soit  $f: \mathbb{R} \rightarrow \mathbb{R}$  la fonction définie par

$$f(x) = \begin{cases} \frac{\sin(x)}{|x|} & \text{si } x \neq 0, \\ 1 & \text{si } x = 0. \end{cases}$$

Alors :

- $f$  est continue sur  $\mathbb{R}$ , mais pas dérivable en  $x = 0$
- $f$  est dérivable en  $x = 0$
- $f$  est dérivable à droite de  $x = 0$
- $\lim_{x \rightarrow 0} f(x)$  existe mais  $f$  n'est pas continue en  $x = 0$

**Question 14 :** Soit  $f: \mathbb{R} \rightarrow \mathbb{R}$  la fonction définie par  $f(x) = e^{1+x-\cos(x)}$ . Le développement limité d'ordre 3 de  $f$  autour de  $x_0 = 0$  est donné par

- $f(x) = 1 - x + x^2 - \frac{2}{3}x^3 + o(|x|^3)$
- $f(x) = 1 + x + x^2 + \frac{2}{3}x^3 + o(|x|^3)$
- $f(x) = 1 - x + \frac{1}{3}x^3 + o(|x|^3)$
- $f(x) = 1 + x - \frac{1}{3}x^3 + o(|x|^3)$

**Question 15 :** Soit  $(u_n)_{n \geq 0}$  la suite définie par  $u_0 = 1$  et, pour  $n \geq 1$ ,  $u_n = -\frac{2}{3}u_{n-1} + 2$ . Alors :

- $\lim_{n \rightarrow \infty} u_n = +\infty$
- $\lim_{n \rightarrow \infty} u_n = \frac{6}{5}$
- $\lim_{n \rightarrow \infty} u_n = -\infty$
- $\lim_{n \rightarrow \infty} u_n = 2$

**Question 16 :** Soit  $f: \mathbb{R} \rightarrow \mathbb{R}$  la fonction définie par

$$f(x) = \begin{cases} |4 - x^2| & \text{si } x \leq 0, \\ 4|x^2 - 1| & \text{si } x > 0. \end{cases}$$

Alors :

- $f$  n'est pas continue en  $x = 1$
- $f$  n'est pas continue en  $x = 0$
- $f$  n'est pas continue en  $x = -2$
- $f$  est continue sur  $\mathbb{R}$

**Question 17 :** Soit, pour  $k \in \mathbb{N}^*$ ,  $a_k = (-1)^k \frac{k+2}{k^3}$  et soit  $s_n = \sum_{k=1}^n a_k$ . Alors :

- la série  $\sum_{k=1}^{\infty} a_k$  converge absolument
- $\lim_{n \rightarrow \infty} s_n = -\infty$
- $\lim_{n \rightarrow \infty} s_n = +\infty$
- la série  $\sum_{k=1}^{\infty} a_k$  converge, mais ne converge pas absolument



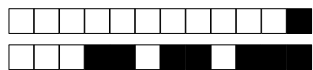
**Question 18 :** L'intégrale généralisée  $\int_{-\infty}^{\infty} \frac{e^x}{1+e^{2x}} dx$  vaut

$\frac{\pi}{2}$

$2 \arctan(e)$

1

$\arctan\left(\frac{1}{2}\right)$

**Deuxième partie, questions du type Vrai ou Faux**

Pour chaque question, marquer (sans faire de ratures) la case VRAI si l'affirmation est **toujours vraie** ou la case FAUX si elle **n'est pas toujours vraie** (c'est-à-dire si elle est parfois fausse).

**Question 19 :** Soit  $f: \mathbb{R} \rightarrow \mathbb{R}$  une fonction telle que  $\lim_{x \rightarrow +\infty} f(x) = +\infty$  et soit  $(a_n)_{n \geq 0}$  la suite définie par  $a_0 = 1$  et, pour  $n \geq 1$ ,  $a_n = f(a_{n-1})$ . Alors  $\lim_{n \rightarrow \infty} a_n = +\infty$ .

VRAI       FAUX

**Question 20 :** Soit  $f: \mathbb{R} \rightarrow \mathbb{R}$  une fonction strictement monotone. Alors  $f$  est surjective.

VRAI       FAUX

**Question 21 :** La fonction  $f: \mathbb{R} \rightarrow \mathbb{R}$  définie par  $f(t) = \int_0^t |x| dx$  est dérivable en  $t = 0$ .

VRAI       FAUX

**Question 22 :** Si la série entière  $\sum_{k=0}^{\infty} a_k (x - 5)^k$  converge pour  $x = 2$ , alors elle converge pour  $x = 6$ .

VRAI       FAUX

**Question 23 :** Soit  $f: \mathbb{R} \rightarrow \mathbb{R}$  une fonction avec le développement limité d'ordre 2 autour de  $x_0 = 0$  donné par  $f(x) = a + bx + cx^2 + o(|x|^2)$ , où  $a, b, c \in \mathbb{R}$ . Si  $f$  est dérivable en  $x_0 = 0$ , alors  $f'(0) = b$ .

VRAI       FAUX

**Question 24 :** Soient  $z_1, z_2 \in \mathbb{C}$  tels que  $\operatorname{Re}(z_1 \cdot z_2) = 0$ . Alors  $\operatorname{Re}(z_1) \cdot \operatorname{Re}(z_2) = 0$ .

VRAI       FAUX

**Question 25 :** Soit  $f: ]0, 1[ \rightarrow \mathbb{R}$  une fonction continue. Si  $\lim_{x \rightarrow 0^+} f(x) = 0$  et  $\lim_{x \rightarrow 1^-} f(x) = 0$ , alors  $f$  est bornée.

VRAI       FAUX



**Question 26 :** Soient  $A$  et  $B$  deux sous-ensembles bornés non-vides de  $\mathbb{R}$ . Si  $\inf A > \sup B$ , alors  $A \cap B$  est vide.

VRAI       FAUX

**Question 27 :** Soit  $f: \mathbb{R} \rightarrow \mathbb{R}$  une fonction telle que la limite de la suite  $(f(\frac{1}{n}))_{n \geq 1}$  vaut  $f(0)$ . Alors  $f$  est continue en  $x_0 = 0$ .

VRAI       FAUX

**Question 28 :** Soit  $(a_n)_{n \geq 1}$  une suite de nombres strictement négatifs. Alors, la série  $\sum_{n=1}^{\infty} a_n$  converge absolument si et seulement si elle converge.

VRAI       FAUX

**Troisième partie, questions de type ouvert**

Répondre dans l'espace dédié. Votre réponse doit être soigneusement justifiée, toutes les étapes de votre raisonnement doivent figurer dans votre réponse. Laisser libres les cases à cocher : elles sont réservées au correcteur.

**Question 29:** *Cette question est notée sur 8 points.*

0  1  2  3  4  5  6  7  8

*Réservé au correcteur*

- (a) Énoncer et montrer les formules d'Euler vues au cours.
- (b) En utilisant les formules d'Euler, montrer que pour tous  $a, b \in \mathbb{R}$ ,


$$\sin(a) + \sin(b) = 2 \sin\left(\frac{a+b}{2}\right) \cos\left(\frac{a-b}{2}\right)$$

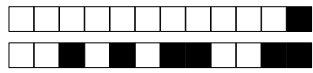
- (c) Soit  $(x_n)_{n \geq 1}$  la suite définie par

$$x_n = \sin\left(\sqrt{n^2 - 4n + 5}\right) + \sin(2 - n).$$


Calculer  $\lim_{n \rightarrow \infty} x_n$ . Justifier soigneusement votre réponse.








+1/10/51+







**Question 30:** *Cette question est notée sur 8 points.*

0  1  2  3  4  5  6  7  8

*Réservé au correcteur*

(a) À l'aide d'un critère du cours montrer que la série

$$\sum_{k=1}^{\infty} \frac{2^k(k-1)}{(k+1)!}$$

converge.

(b) Montrer par récurrence que pour tout  $n \geq 1$ ,

$$\sum_{k=1}^n \frac{2^k(k-1)}{(k+1)!} = 2 - \frac{2^{n+1}}{(n+1)!}.$$

(c) En déduire la valeur de la série

$$\sum_{k=1}^{\infty} \frac{2^k(k-1)}{(k+1)!}.$$

